

VSWS I

2019



Series

వర్గము

C

Held on 01.09.2019

(English & Telugu versions)

Max. Marks : 150

మొత్తం మార్కులు : 150

Time : 150 Minutes

సమయము : 150 నిమిషములు

INSTRUCTIONS (నిర్దేశములు)

1. Please check the Test Booklet and ensure that it contains all the 150 questions. If you find any defect in the Test Booklet or Answer Sheet, please get it replaced immediately.
ప్రశ్న పత్రములో అన్ని ప్రశ్నలు 150 ముద్రింపబడినవో లేవో చూచుకొనవలెను. ప్రశ్న పత్రములో గాని, సమాధాన పత్రములో గాని ఏదైనా లోపమున్నచో దాని స్థానములో వేరొకదానిని వెంటనే తీసుకొనవలెను.
2. The test booklet consists 150 questions. Part A contains 75 questions and Part B contains 75 questions. Each question carries 1 mark.
ఈ ప్రశ్న పత్రములో 150 ప్రశ్నలున్నవి. పార్ట్ A నందు 75 ప్రశ్నలు మరియు పార్ట్ B నందు 75 ప్రశ్నలు కలవు. ఒక్కొక్క ప్రశ్నకు 1 మార్కు కేటాయించబడినది.
3. The Question Paper is set in English and translated into Telugu language. The English version will be considered as the authentic version for valuation purpose.
ప్రశ్నపత్రము ఇంగ్లీషులో తయారుచేయబడి తెలుగు భాషలోకి తర్జుమా చేయబడినది. సమాధాన పత్రము మదింపు చేయునపుడు ఇంగ్లీషు ప్రశ్నపత్రము ప్రామాణికముగా తీసుకొనబడును.
4. The Test Booklet is printed in four (4) Series, viz. A B C D. The Series, A or B or C or D is printed on the right-hand corner of the cover page of the Test Booklet. Mark your Test Booklet Series A or B or C or D in Part C on side 1 of the OMR Answer Sheet by darkening the appropriate circle with Blue/Black Ball point pen.
ప్రశ్న పత్రము నాలుగు వర్గములలో (Series) అనగా A B C D వర్గములలో ముద్రించబడినది. ఈ వర్గములను A గాని B గాని C గాని D గాని ప్రశ్న పత్రము యొక్క కవరు పేజీ కుడివైపు మూలలో ముద్రించబడినది. మీకిచ్చిన ప్రశ్న పత్రము యొక్క వర్గము (Series) A గాని B గాని C గాని D గాని OMR సమాధాన పత్రము ఒకటవ వైపు పార్ట్ C నందు అందుకోసము కేటాయించబడిన వృత్తమును బ్లూ/బ్లాక్ బాల్ పాయింట్ పెన్నుతో నల్లగా రుద్ది నింపవలెను.

Example to fill up the Booklet Series

If your Test Booklet Series is A, please fill as shown below :



If you have not marked the Test Booklet Series at Part C of side 1 of the OMR Answer Sheet or marked in a way that it leads to discrepancy in determining the exact Test Booklet Series, then, in all such cases, your OMR Answer Sheet will be invalidated without any further notice. No correspondence will be entertained in the matter.

మీ ప్రశ్న పత్రము యొక్క వర్గమును (Series) OMR సమాధాన పత్రము ఒకటవ వైపున పార్ట్ C లో గుర్తించకపోయినా లేక గుర్తించిన వర్గము ప్రశ్నపత్ర వర్గము ఖచ్చితముగా తెలుసుకొనుటకు వివాదమునకు దారి తీసేదిగా ఉన్నా అటువంటి అన్ని సందర్భములలో, మీకు ఎటువంటి నోటీసు జారీ చేయకుండానే OMR సమాధాన పత్రము పరిశీలించబడదు (invalidated). దీనిని గురించి ఎటువంటి ఉత్తరప్రత్యుత్తరములు జరుపబడవు.

5. Each question is followed by 4 answer choices. Of these, you have to select one correct answer and mark it on the OMR Answer Sheet by darkening the appropriate circle for the question. If more than one circle is darkened, the answer will not be valued at all. Use Blue or Black Ball point pen to make heavy black marks to fill the circle completely. Make **no** other stray marks. **Use of whitener is prohibited.** If used, it will lead to invalidation.

ప్రతి ప్రశ్నకు నాలుగు సమాధానములు ఇవ్వబడినవి. అందులో సరియగు జవాబు ఎన్నుకొని OMR సమాధాన పత్రములో ప్రశ్నకు కేటాయించబడిన వృత్తమును నల్లగా రుద్ది నింపవలెను. ఒక దానికన్నా ఎక్కువ వృత్తములను నింపినచో, ఆ సమాధానము పరిశీలించబడదు. వృత్తమును పూర్తిగా నల్లగా రుద్ది నింపుటకు బ్లూ/బ్లాక్ బాల్ పాయింట్ పెన్ను వాడవలెను. అనవసరపు గుర్తులు పెట్టరాదు. వైట్నర్ వాడుట నిషేధించడమైనది. వాడినచో సమాధాన పత్రము పరిశీలించబడదు.

e.g. : If the answer for Question No. 1 is Answer choice (2), it should be marked as follows :

ఉదా : ప్రశ్న యొక్క క్రమసంఖ్య 1 కి జవాబు (2) అయినప్పుడు దానిని ఈ క్రింది విధముగా గుర్తించవలెను :

1	①	●	③	④
---	---	---	---	---

6. Use Blue or Black Ball Point Pen only, failing which your OMR Answer Sheet will be invalidated. **Gel pens/pencils are not allowed.** It is not required to darken the second copy separately.

సమాధాన పత్రాన్ని నింపటానికి నీలి లేక నల్ల బాల్ పాయింట్ పెన్నును మాత్రమే వాడవలెను లేకుంటే OMR సమాధాన పత్రము పరిశీలించబడదు. జెల్ పెన్నులు, పెన్సిల్స్ ఉపయోగించకూడదు రెండవ కాపీ పత్రాన్ని వేరుగా నింపే అవసరములేదు.

7. Please get the signature of the Invigilator affixed in the space provided in the OMR Answer Sheet. An OMR Answer Sheet without the signature of the Invigilator is liable for **invalidation**.

OMR సమాధాన పత్రములో కేటాయించిన స్థలములో పర్యవేక్షకుని (Invigilator) యొక్క సంతకమును పొందవలెను. సదరు పర్యవేక్షకుని సంతకము OMR సమాధాన పత్రములో లేకపోయినచో అది పరిశీలించబడదు.

8. DO NOT fold, tear, wrinkle, tie, staple, do any rough work or make any stray marks on the OMR Answer Sheet, otherwise your OMR Answer Sheet will be **invalidated**.

ఈ OMR సమాధాన పత్రము పైన ఏదైనా రఫ్ వర్క్ గాని, పత్రమును మడవటముగాని, గీతలు గీయటము గాని, చింపటంగాని, పిన్ చేయటం, గాయటము గాని చేసినచో మీ OMR సమాధాన పత్రము పరిశీలించబడదు.

9. Using the Whitener/Blade/Eraser or any kind of tampering to change the answers on OMR Answer Sheet will lead to **invalidation**.

సమాధాన పత్రములో మీ జవాబు మార్పుటకు వైట్నర్, బ్లేడు, రబ్బరు లేక ఏ విధమైన దిద్దుటవంటి చర్యలు చేసినా మీ OMR సమాధాన పత్రము పరిశీలించబడదు.

10. Do **not** mark answer choices on the Test Booklet. Violation of this will be viewed seriously.

సమాధానములను ప్రశ్నపత్రముపై గుర్తించరాదు. దీనిని అతిక్రమించినచో తీవ్రంగా పరిగణించబడును.

11. Before leaving the examination hall, the candidate should hand over the original OMR Answer Sheet (top sheet) to the Invigilator and carry the bottom sheet (duplicate) for his/her record.

పరీక్ష హాల్ ను వదిలి వెళ్లనపుడు, అభ్యర్థి తన సమాధాన పత్రము ఒరిజినల్ ని (పైనున్న పత్రము) అక్కడ ఉన్న పర్యవేక్షకునికి (Invigilator) ఇచ్చి, నకలు (duplicate) OMR సమాధాన పత్రమును (క్రింది పత్రము) పరిష్కార తనతో తీసుకొని వెళ్లవచ్చును.

12. Programming Calculators, Mathematical/Log Tables, Mobile Phones, Bluetooth instruments or any other Electronic Devices will not be allowed into the Examination Hall.

ప్రొగ్రామింగ్ కాలిక్యులేటర్స్, గణిత/లాగ్ టేబుల్స్, మొబైల్స్, బ్లూటూత్ పరికరాలు గాని లేదా ఎటువంటి ఎలక్ట్రానిక్ పరికరములను పరీక్ష హాలులోనికి అనుమతించబడవు.

13. Candidates should stay in the Examination Hall till expiry of Full Time i.e. $2\frac{1}{2}$ Hours. No candidate shall be allowed to leave the Hall in the middle of the examination under any circumstances.

పరీక్షా హాలులో అభ్యర్థులు పరీక్ష పూర్తి అయ్యే వరకు ($2\frac{1}{2}$ గంటలు) ఉండవలెను. పరీక్ష మధ్యలో ఎట్టి పరిస్థితులలోను బయటకు పంపబడరు.

14. If any candidate attempts to use any means to cheat/copy etc., he/she is liable for prosecution and debarment.

ఏ అభ్యర్థి అయినా చీటింగ్/కాపీ మొదలగు నని చేయడానికి ప్రయత్నించినట్లయితే వారు అభియోగము మరియు బహిష్కరణకు గురి అవుతారు.

15. Rough work may be done on the last page of the Question Booklet only. It should not be done anywhere else.

రఫ్ వర్క్ను ప్రశ్న పత్రంలో చివరి పేజీలో మాత్రమే చేయాలి. వేరే ఎక్కడా చేయరాదు.

16. As per Memo No. PRRO/-PROPPAN (HO No/3/2019/Mdl-I Dt. 26-7-2019 of the PR & RD Dept., each wrong answer will be penalized with $1/4^{\text{th}}$ of the marks prescribed for the question and that would be deducted from their total marks.

As per Memo No. PRRO/-PROPPAN (HO No/3/2019/Mdl-I Dt. 26-7-2019 of the PR & RD Dept., ప్రకారంగా మొత్తం మార్కుల నుండి ప్రతి తప్పు సమాధానమునకు గాను ఆ ప్రశ్నకు కేటాయించబడిన మార్కుల నుండి $1/4$ వ వంతు మార్కులను తగ్గించడం జరుగుతుంది.

PART A

1. Name the outermost boundary of a living animal cell.

- (1) Plasma membrane
- (2) Cytoplasm
- (3) Nuclear membrane
- (4) DNA strands

2. Consider the following statements :

- A. Green chemistry focuses on effects of chemical pollutants on nature.
- B. Environmental chemistry focuses on technological approach to prevent pollution.

Which of the above statements is/are correct ?

- (1) Only A
- (2) Only B
- (3) Both A and B
- (4) Neither A nor B

పార్ట్ A

1. జంతు జీవకణము చుట్టూ ఆవరించి యుండునది.

- (1) ప్లాస్మాపొర
- (2) కణపదార్థం (Cytoplasm)
- (3) కేంద్రక పొర
- (4) DNA తంతువులు

2. క్రింది వాటిని పరిగణనలోకి తీసుకోండి :

- A. ప్రకృతిపై రసాయన కాలుష్య కారకాల ప్రభావాలపై గ్రీన్ కెమిస్ట్రీ దృష్టి పెడుతుంది.
- B. కాలుష్యాన్ని నివారించడానికి సాంకేతిక విధానంపై పర్యావరణ రసాయన శాస్త్రం దృష్టి పెడుతుంది.

పై ప్రవచనాలలో సరియైనది(వి)

- (1) A మాత్రమే
- (2) B మాత్రమే
- (3) A మరియు B రెండూ
- (4) A కాదు మరియు B కాదు

3. Consider the following :

Assertion (A) : Bt cotton is a genetically engineered cotton variety.

Reason (R) : *Bacillus thuringiensis* is "living insecticide".

Choose the correct answer from the codes given below.

Codes :

- (1) A and R are true and R is the correct explanation of A
- (2) A and R are true but R is not the correct explanation of A
- (3) A is true but R is false
- (4) A is false but R is true

4. Which gas is safe and an effective extinguisher for all confined fires ?

- (1) Nitrogen dioxide
- (2) Carbon dioxide
- (3) Sulphur dioxide
- (4) Nitrous oxide

3. క్రింది వాటిని పరిగణించండి :

నిశ్చితము (A) : Bt వత్తి అనునది జన్యు ఇంజనీరింగ్ ద్వారా అభివృద్ధి పరచబడిన ప్రత్తిరకము.

కారణము (R) : బాసిల్లస్ థురంజియెన్సిస్ అనునది "జీవక్రిమి సంహారిణి".

ఇచ్చిన గుర్తులను బట్టి సమాధానమును గుర్తించండి.

కోడ్ :

- (1) A మరియు R రెండును సత్యములు మరియు A కు R సరైన వివరణ
- (2) A మరియు R రెండును సత్యములు కాని A కు R సరైన వివరణ కాదు
- (3) A సత్యము, కాని R అసత్యము
- (4) A అసత్యము, కాని R సత్యము

4. పరిమితమైన అన్ని మంటలను ఆర్పుటకు సురక్షితమైన మరియు ప్రభావ వంతమైన వాయువు

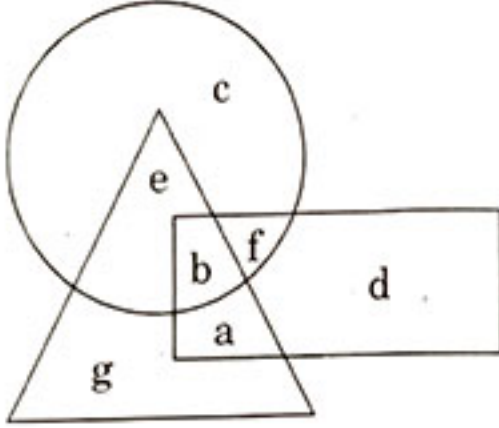
- (1) నైట్రోజన్ డయాక్సైడ్
- (2) కార్బన్ డయాక్సైడ్
- (3) సల్ఫర్ డయాక్సైడ్
- (4) నైట్రస్ ఆక్సైడ్

5. The term "Biodiversity hotspot" refers to
- (1) An artificial intelligence interface giving information about biodiversity
 - (2) A region which has the maximum biodiversity
 - (3) A region with exceptional levels of plant diversity and serious levels of habitat loss
 - (4) A region that is most susceptible to biodiversity loss
5. "బయోడైవర్సిటీ హాట్ స్పాట్" అను పదము దీనికి చెందును
- (1) ఒక అంతర్ముఖ కృత్రిమ మేధస్సు జీవవైవిధ్యానికి సంబంధించిన సమాచారాన్ని ఇవ్వడం
 - (2) గరిష్ట జీవవైవిధ్యం ఉన్న ప్రాంతం
 - (3) మొక్కల వైవిధ్యం యొక్క అసాధారణ స్థాయిలు మరియు తీవ్రస్థాయి ఆవాస నష్టం కలిగిన ఒక ప్రాంతం
 - (4) జీవవైవిధ్య నష్టానికి గ్రహణశీలతను కలిగిన ప్రాంతం
6. The Ramsar Convention is important with respect to
- (1) Protection of ozone layer
 - (2) Protection of wetlands
 - (3) Protection of wild flora and fauna
 - (4) Protection of tigers
6. రామ్సర్ సదస్సు దీనికి సంబంధించి ముఖ్యమైనది
- (1) ఓజోను పొర సంరక్షణ
 - (2) మాగాణి భూముల (wetlands) సంరక్షణ
 - (3) వన్య మొక్కల మరియు వన్య జంతువుల సంరక్షణ
 - (4) పులుల సంరక్షణ
7. According to the report, 'Our Common Future', what is the major cause and effect of global environmental problems ?
- (1) Poverty
 - (2) Population
 - (3) Industrialisation
 - (4) Pollution
7. 'అవర్ కామన్ ఫ్యూచర్' నివేదిక ప్రకారం ప్రపంచ వ్యాపారణ సమస్యల యొక్క ప్రధాన కార్యకారణ సంబంధం ఏది ?
- (1) పేదరికం
 - (2) జనాభా
 - (3) పారిశ్రామికీకరణ
 - (4) కాలుష్యం

8. How many meaningful words can be formed using the first, the third, the fifth and the sixth letters of the word TRADEMARK using each letter only once in each word ?

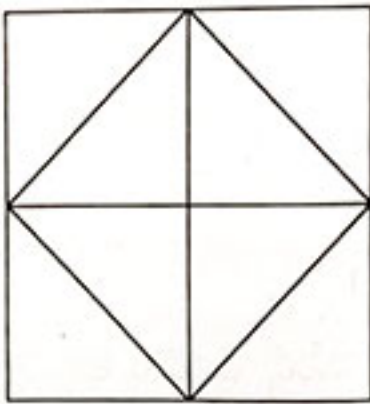
- (1) One
- (2) Two
- (3) Three
- (4) Four

9. Find the letter that lies only inside the triangle.



- (1) e
- (2) a
- (3) g
- (4) b

10. Number of triangles in the figure is

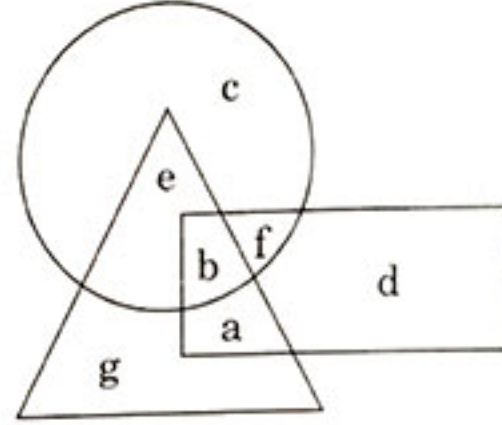


- (1) 16
- (2) 12
- (3) 8
- (4) 6

8. TRADEMARK అను పదము నుంచి 1వ, 3వ, 5వ మరియు 6వ అక్షరములతో ఎన్ని అర్థవంతమైన పదములను ఒక అక్షరమును ఒకసారే ఉపయోగించి తయారు చేయవచ్చును

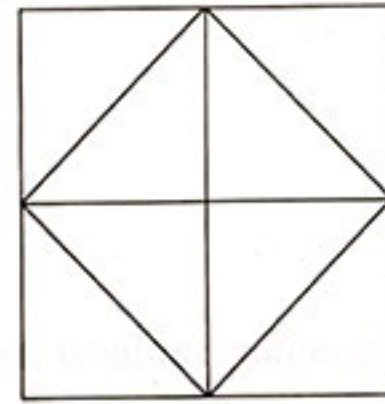
- (1) ఒకట
- (2) రెండు
- (3) మూడు
- (4) నాలుగు

9. త్రిభుజములో మాత్రమే గల అక్షరము



- (1) e
- (2) a
- (3) g
- (4) b

10. ఈ క్రింది వానిలో ఎన్ని త్రిభుజములు ఉన్నాయో కనుగొనుము



- (1) 16
- (2) 12
- (3) 8
- (4) 6

11. If $a * b = \frac{ab}{a+b}$, find the value of $3 * (3 * (-2))$.
- (1) 6
(2) 3
(3) 9
(4) 12
12. Two trains running in opposite directions cross a man standing on the platform in 27 seconds and 15 seconds respectively and they cross each other in 23 seconds. The ratio of their speeds is
- (1) 3 : 2
(2) 3 : 4
(3) 2 : 1
(4) 1 : 4
13. A sum of money invested at compound interest amounts to ₹ 9,248 in 2 years and to ₹ 9,826 in 3 years. The sum of money is
- (1) ₹ 8,192
(2) ₹ 8,526
(3) ₹ 8,670
(4) ₹ 8,720
14. This is not a popular top-level domain :
- (1) .com
(2) .army
(3) .net
(4) .org
11. $a * b = \frac{ab}{a+b}$ అయిన $3 * (3 * (-2)) = \underline{\hspace{2cm}}$
- (1) 6
(2) 3
(3) 9
(4) 12
12. రెండు ఎదురు ఎదురుగా వచ్చే రైళ్ళు ప్లాట్ ఫారం పై నిలబడిన వ్యక్తిని వరుసగా 27 సెకనులు మరియు 15 సెకనుల్లో దాటిపోయినవి మరియు ఆ రెండు రైళ్ళు ఒకదానికొకటి 23 సెకనులలో దాటినవి. అయిన ఈ రెండు రైళ్ళ వేగముల నిష్పత్తి
- (1) 3 : 2
(2) 3 : 4
(3) 2 : 1
(4) 1 : 4
13. కొంత ధనమును బారువడ్డికి ఇచ్చిరి. ఇది రెండు సంవత్సరములకు 9,248 రూ. మరియు 3 సంవత్సరములకు 9,826 రూ. అయినవి అయిన బారు వడ్డికి ఇచ్చిన ధనము ఎంత ?
- (1) ₹ 8,192
(2) ₹ 8,526
(3) ₹ 8,670
(4) ₹ 8,720
14. క్రింది వానిలో ప్రసిద్ధి చెందిన అగ్రస్థాయి డొమైన్ కానిది
- (1) .com
(2) .army
(3) .net
(4) .org

15. Verification of a Login name and password is known as
- (1) Configuration
 - (2) Accessibility
 - (3) Authentication
 - (4) Logging in
16. India's present Permanent Representative at UNO is
- (1) Shashi Tharoor
 - (2) Syed Akbaruddin
 - (3) G. Parthasarthy
 - (4) G. Ramaswamy
17. In these cities of Sri Lanka, there was a bomb blast in 2019 on the day of Easter :
- A. Colombo
 - B. Negombo
 - C. Batticaloa
- The correct answer from the above is
- (1) A and B
 - (2) B and C
 - (3) C and A
 - (4) A, B and C
18. On June 17, 2019 a report on 'The World Population Prospectus 2019 : Highlights' was published by this organisation :
- (1) UNICEF
 - (2) UNESCO
 - (3) UNO
 - (4) WHO
15. లాగిన్ పేరు మరియు పాస్‌వర్డ్ యొక్క ధృవీకరణను ఇలా అంటారు
- (1) కాన్ఫిగరేషన్
 - (2) సౌలభ్యత
 - (3) ప్రామాణీకరణ
 - (4) లాగింగ్ ఇన్
16. UNO లో ప్రస్తుత భారత శాశ్వత ప్రతినిధి
- (1) శశి థరూర్
 - (2) సయ్యద్ అక్బరుద్దీన్
 - (3) జి. పార్థసారథి
 - (4) జి. రామస్వామి
17. 2019 లో ఈస్టర్ రోజున శ్రీలంకలోని ఈ నగరాలపై బాంబు బ్లాస్ట్ జరిగింది :
- A. కొలంబో
 - B. నెగొంబో
 - C. బట్టికలోవ
- పై వాటి నుండి సరియైన సమాధానం గుర్తించండి
- (1) A మరియు B
 - (2) B మరియు C
 - (3) C మరియు A
 - (4) A, B మరియు C
18. 2019 జూన్ 17 న 'ది వరల్డ్ పాపులేషన్ ప్రాస్పెక్టస్ 2019 : హైలైట్స్' అను ఒక నివేదిక ఈ సంస్థ ప్రచురించినది
- (1) UNICEF
 - (2) UNESCO
 - (3) UNO
 - (4) WHO

19. It was decided to start Secretariats on this date by the Government of Andhra Pradesh. Village by the
- (1) 14th November, 2019
 (2) 1st November, 2019
 (3) 2nd October, 2019
 (4) 15th October, 2019
20. The second country which declared Climate Emergency is
- (1) Brazil
 (2) Ireland
 (3) Italy
 (4) Iceland
21. Which of the following are *not* correctly matched ?
- A. Haemoglobin : Skin
 B. Vitamin C : Glaucoma
 C. Carbohydrate : Potato
 D. Fat : Butter
- (1) Only A and B
 (2) Only B, C and D
 (3) Only A and D
 (4) Only A, B and D
22. What portion of the Moon is visible from the Earth's surface ?
- (1) 47%
 (2) 34%
 (3) 21%
 (4) 59%
19. ఆంధ్ర ప్రదేశ్ ప్రభుత్వంచే ఈ తేదిన గ్రామ సచివాలయాలు ప్రారంభానికి నిర్ణయించబడింది
- (1) 14 నవంబర్, 2019
 (2) 1 నవంబర్, 2019
 (3) 2 అక్టోబర్, 2019
 (4) 15 అక్టోబర్, 2019
20. క్లైమేట్ ఎమర్జెన్సీ ప్రకటించిన రెండవ దేశం
- (1) బ్రెజిల్
 (2) ఐర్లాండ్
 (3) ఇటలీ
 (4) ఐస్లాండ్
21. క్రింది వానిలో సరికాని జతలను గుర్తించండి :
- A. హీమోగ్లోబిన్ : చర్మము
 B. విటమిన్-C : నీటి కాసులు
 C. పిండి వదార్థము : బంగాళాదుంప
 D. కొవ్వు : వెన్న
- (1) A మరియు B మాత్రమే
 (2) B, C మరియు D మాత్రమే
 (3) A మరియు D మాత్రమే
 (4) A, B మరియు D మాత్రమే
22. భూతలం నుంచి చంద్రుని చూసినప్పుడు చంద్రుడు ఎంత శాతం కనిపిస్తాడు ?
- (1) 47%
 (2) 34%
 (3) 21%
 (4) 59%

23. The quality of a printer is measured by

- (1) Alphabets per Strike
- (2) Words per Inch
- (3) Strikes per Inch
- (4) Dots per Inch

24. Which Article of UN Framework Convention on Climate Change speaks about education, training and raising public awareness for dealing with climate change ?

- (1) Article 4
- (2) Article 6
- (3) Article 7
- (4) Article 5

25. Wildlife Conservation projects in India have special projects for protecting which of these animals ?

- (1) Tigers and rhinos
- (2) Rhinos and elephants
- (3) Tigers and elephants
- (4) Tigers and lions

26. Environmental sustainability requires

- (1) Implementing environmental protection laws stringently
- (2) Participatory, open and democratic decision-making
- (3) Focussing on the number of beneficiaries
- (4) Reducing deforestation

23. ప్రింటర్ యొక్క నాణ్యత దీనిద్వారా కొలవబడును

- (1) ఒక స్ట్రైక్కు అక్షరాలు
- (2) ఒక అంగుళానికి పదాలు
- (3) ఒక అంగుళానికి స్ట్రైకులు
- (4) ఒక అంగుళానికి డాట్లు

24. UN ఫ్రేమ్వర్క్ కన్వెన్షన్ ఆన్ క్లైమేట్ ఛేంజ్ యొక్క ఈ ఆర్టికల్ వాతావరణ మార్పులతో వ్యవహరించడానికి విద్య, శిక్షణ మరియు ప్రజలలో అవగాహన పెంచడం గురించి తెలియ చేస్తుంది

- (1) ఆర్టికల్ 4
- (2) ఆర్టికల్ 6
- (3) ఆర్టికల్ 7
- (4) ఆర్టికల్ 5

25. భారత దేశంలోని వన్యప్రాణి సంరక్షణ ప్రాజెక్టులు క్రింది వానిలో ఈ జంతువుల సంరక్షణకు ప్రత్యేక ప్రాజెక్టులను కలిగి ఉన్నాయి

- (1) పులులు మరియు ఖడ్గ మృగాలు
- (2) ఖడ్గ మృగాలు మరియు ఏనుగులు
- (3) పులులు మరియు ఏనుగులు
- (4) పులులు మరియు సింహాలు

26. పర్యావరణ సుస్థిరాభివృద్ధికి కావలసింది

- (1) పర్యావరణ పరిరక్షణ చట్టాలను కఠినంగా అమలు చేయడం
- (2) దావరికం లేని మరియు ప్రజా స్వామ్య యుతంగా పాల్గొని నిర్ణయం తీసుకోవడం
- (3) లబ్ధిదారుల సంఖ్యపై దృష్టి సారించడం
- (4) అటవీ నిర్మూలనను తగ్గించడం

27. Given that

- A is the brother of B.
- C is the father of A.
- D is the brother of E.
- E is the daughter of B.

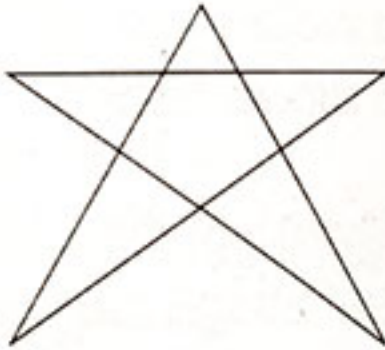
Then, the uncle of D is

- A
- B
- C
- E

28. How many numbers lie between 300 and 500 in which 4 comes only one time ?

- 99
- 100
- 110
- 120

29. Find the number of triangles in the given figure.



- 6
- 5
- 8
- 10

27. క్రింది వాటిని పరిగణనలోకి తీసుకోండి

- B యొక్క సోదరుడు A.
- A యొక్క తండ్రి C.
- E యొక్క సోదరుడు D.
- B యొక్క కుమార్తె E.


అయిన, D యొక్క చిన్నాన్న

- A
- B
- C
- E

28. 4 అంకె ఒక్కసారి మాత్రమే వస్తూ 300 నుండి 500 మధ్య వచ్చే సంఖ్యల సంఖ్య

- 99
- 100
- 110
- 120

29. ఈ పటంలోని త్రిభుజాల సంఖ్య



- 6
- 5
- 8
- 10

30. In this question some statements are followed by some conclusions. You have to take the given statements to be true even if they seem to be at variance with commonly known facts and then decide which of the given conclusions logically follow from the given statements ?

Statements :

- (i) A few of my friends are teachers.
- (ii) Teachers are rude.
- (iii) Some rude persons are good at heart.

Conclusions :

- C1. A few of my friends are good at heart.
 - C2. Some rude persons may not be teachers.
- (1) Only C1 follows
 - (2) Only C2 follows
 - (3) Both C1 and C2 follow
 - (4) Neither C1 nor C2 follows

31. The number 52563768 is divisible by which of the following numbers ?

- (1) 22
- (2) 24
- (3) 44
- (4) 36

30. కింది ప్రశ్నలో కొన్ని ప్రవచనాలు, కొన్ని ముగింపులు ఇవ్వబడ్డాయి. ఇవ్వబడిన వాక్యాలు సాధారణంగా మనకు తెలిసిన సత్యాలతో వేరుగా ఉన్నప్పటికీ వాటిని సత్యాలుగా పరిగణిస్తూ తర్కాన్ని ఉపయోగించి, దిగువ ఏ ప్రవచనాలు ముగింపులకు దారి తీస్తాయో నిర్ణయించండి.

ప్రవచనములు :

- (i) నా స్నేహితులలో కొద్ది మంది టీచర్లు.
- (ii) టీచర్లు కఠినంగా ఉంటారు.
- (iii) కఠినంగా ఉండే కొద్ది మంది మనుషులు మంచి మనస్సు కలిగిఉంటారు.

ముగింపులు :

- C1. నా స్నేహితులు కొద్ది మంది మంచి మనస్సు కలిగి ఉన్నారు.
 - C2. కఠినంగా ఉండే కొద్ది మంది టీచర్లు కాకపోవచ్చు.
- (1) C1 మాత్రమే దారి తీస్తుంది
 - (2) C2 మాత్రమే దారి తీస్తుంది
 - (3) C1 మరియు C2 రెండూ దారి తీస్తాయి
 - (4) C1 మరియు C2 రెండూ దారి తీయవు

31. 52563768 అను సంఖ్య క్రింది వానిలో దేనితో భాగించబడునో తెలపండి ?

- (1) 22
- (2) 24
- (3) 44
- (4) 36

52563768
22

32. A, B and C jointly thought of engaging themselves in a business venture. It was agreed that A would invest ₹ 6,500 for 6 months, B ₹ 8,400 for 5 months and C ₹ 9,000 for 5 months. A wants to be the working member for which he was to receive 10% of the profit. The profit earned was ₹ 7,400. Calculate the share of B in the profit.

- (1) ₹ 2,660
- (2) ₹ 2,520
- (3) ₹ 2,220
- (4) ₹ 2,840

33. Four horses are tethered at four corners of a square plot of side 36 metres so that they just cannot reach one another. The least area left ungrazed is

- (1) 275.5 m^2
- (2) 280.6 m^2
- (3) 277.7 m^2
- (4) 250.5 m^2

32. A, B మరియు C అను ముగ్గురు వ్యక్తులు కలిసి వ్యాపారమును ప్రారంభించాలి అని అనుకొనిరి. A అను అతడు 6,500 రూ. 6 నెలలకును B అను అతడు 8,400 రూ. 5 నెలలకును మరియు C అను అతడు 9,000 రూ. అను 5 నెలలుకును పెట్టుబడి పెట్టుటకు నిర్ణయించిరి. A అను అతడు వ్యాపారము చూసుకొని 10% లాభము తీసుకొనవలెను అని నిర్ణయించిరి. మొత్తము 7,400 రూ. లాభము వచ్చిన యెడల B అను అతనికి లాభము నందు వాటా ఎంత ?

- (1) ₹ 2,660
- (2) ₹ 2,520
- (3) ₹ 2,220
- (4) ₹ 2,840

33. 36 మీ పొడవు గల ఒక చతురస్రాకార పొలము నందు నాలుగు మూలల నాలుగు గుర్రములు కట్టి వేయబడినవి. ఈ గుర్రములు ఒకదానికి ఒకటి చేరుకొనలేవు అయిన ఈ గుర్రములు ప్రయాణించలేని ప్రదేశము యొక్క కనిష్ఠ వైశాల్యము

- (1) 275.5 m^2
- (2) 280.6 m^2
- (3) 277.7 m^2
- (4) 250.5 m^2

34. The term 'Computer' generally refers to the Central Processing Unit and also,

- (1) Input Devices
- (2) External Memory
- (3) Internal Memory
- (4) Output Device

35. To do the formatting of text in Word, this grouping is used.

- (1) Tables, Paragraphs and Indexes
- (2) Paragraphs, Indexes and Sections
- (3) Characters, Sections and Paragraphs
- (4) Indexes, Characters and Tables

36. Consider the following statements :

- A. Population Division of the United Nations published a report titled 'The World Population Prospectus 2019' on 17th June, 2019.
- B. The report says that the world's population in 2019 is 7.7 billion.
- C. As per the report, in 2019 China has 1.33 billion population and India has 1.27 billion population.

Identify correct statement(s) from the above.

- (1) Only A and B
- (2) Only A
- (3) Only C and A
- (4) C, B and A

34. 'కంప్యూటర్' అనే పదం సాధారణంగా సెంట్రల్ ప్రాసెసింగ్ యూనిట్ను మరియు దీనిని సూచిస్తుంది

- (1) ఇన్పుట్ పరికరాలు
- (2) బాహ్య మెమొరి
- (3) అంతర్గత మెమొరి
- (4) అవుట్పుట్ పరికరం

35. వర్డ్లో టెక్స్ట్ యొక్క ఆకృతీకరణ జరపడానికి ఈ సమూహాన్ని వాడతారు

- (1) పట్టికలు, పేరాలు మరియు సూచికలు
- (2) పేరాలు, సూచికలు మరియు విభాగాలు
- (3) అక్షరాలు, విభాగాలు మరియు పేరాలు
- (4) సూచికలు, అక్షరాలు మరియు పట్టికలు

36. కింది ప్రవచనాలను పరిగణనలోకి తీసికోండి :

- A. ఐక్య రాజ్య సమితి జనాభా విభాగము 2019 జూన్ 17 న 'ది వరల్డ్ పాపులేషన్ ప్రోస్పెక్టస్ 2019' శీర్షికతో ఒక నివేదిక ప్రచురించింది.
- B. 2019 లో ప్రపంచ జనాభా 7.7 బిలియన్లని ఆ నివేదిక చెప్తోంది.
- C. పై నివేదిక ప్రకారం 2019 లో చైనా 1.33 బిలియన్లు, ఇండియా 1.27 బిలియన్ల జనాభా కలిగి ఉన్నవి.

పై ప్రవచనాల నుండి సరియైన వాటిని గుర్తించండి.

- (1) A మరియు B మాత్రమే
- (2) A మాత్రమే
- (3) C మరియు A మాత్రమే
- (4) C, B మరియు A

37. This country has released a special postage stamp on Ramayana on 24th April, 2019 to commemorate 70 years of its diplomatic relations with India.

- (1) Malaysia
- (2) Singapore
- (3) Philippines
- (4) Indonesia

38. Consider the following statements :

- A. Jal Shakti is a new Ministry in Central Cabinet.
- B. The objective of Jal Shakti Ministry is to provide water for irrigation to every inch of land.
- C. The Government wants to make Jal Shakti a Jan Andolan.
- D. The aim of Jal Shakti Ministry is to provide piped water to every household within the next 5 years.

Identify the correct statements.

- (1) A, B, C and D
- (2) Only A, D
- (3) Only D, C, A
- (4) Only B, C

37. ఇండియాలో 70 సంవత్సరాల దౌత్య సంబంధాల స్మృత్యర్థం ఈ దేశం రామాయణం పై 24 ఏప్రిల్, 2019, ప్రత్యేక తపాలా స్టాంపును విడుదల చేసింది.

- (1) మలేషియా
- (2) సింగపూర్
- (3) ఫిలిప్పైన్స్
- (4) ఇండోనేషియా

38. కింది ప్రవచనాలను పరిగణనలోకి తీసికోండి :

- A. కేంద్ర మంత్రి వర్గంలో జలశక్తి ఒక నూతన మంత్రిత్వ శాఖ.
- B. జలశక్తి మంత్రిత్వ శాఖ లక్ష్యం ప్రతి అంగుళం భూమికి సాగునీరు అందించుట.
- C. జలశక్తిని ఒక ప్రజా ఉద్యమం చేయాలనేది ప్రభుత్వ అభిలాష.
- D. జలశక్తి మంత్రిత్వ శాఖ ఉద్దేశ్యం రాబోవు అయిదు సంవత్సరాలలో ప్రతి ఇంటికి పైపుల / నాలా ద్వారా నీరు అందించుట.

సరియైన ప్రవచనాలను గుర్తించండి.

- (1) A, B, C మరియు D
- (2) A, D మాత్రమే
- (3) D, C, A మాత్రమే
- (4) B, C మాత్రమే

39. One of the key recommendations of the Draft Policy of National Education Policy 2019 is the extended coverage of RTE Act 2009 to all children between the ages of

- (1) 3 to 18 years
- (2) 4 to 14 years
- (3) 5 to 15 years
- (4) 6 to 16 years

40. The city that was decided to be renamed as 'Atal Nagar' in memory of former Prime Minister Atal Bihari Vajpayee is

- (1) Vidisha
- (2) Naya Raipur
- (3) Jabalpur
- (4) Betul

41. Identify the correct pairs of fundamental quantities and their SI units from the following :

- | | | |
|---------------------|---|----------|
| A. Electric Current | : | Ampere |
| B. Power | : | W (Watt) |
| C. Pressure | : | N/m^2 |
| D. Mass | : | Kilogram |

Choose the correct answer from the following.

- (1) Only A and B
- (2) Only B and C
- (3) Only C and D
- (4) Only D and A

39. 2019 నూతన జాతీయ విద్యావిధానం ముసాయిదా పాలసీలోని ఒక ముఖ్యమైన సిఫారసు RTE చట్టం 2009 ని ఈ వయస్సు బాలలందరికి వర్తింపచేసి వారిని ఈ చట్ట పరిధిలోకి తీసికొని రావటం

- (1) 3 నుండి 18 సంవత్సరాలు
- (2) 4 నుండి 14 సంవత్సరాలు
- (3) 5 నుండి 15 సంవత్సరాలు
- (4) 6 నుండి 16 సంవత్సరాలు

40. మాజీ ప్రధాన మంత్రి అటల్ బిహారి వాజ్పాయ్ స్మృత్యర్థం ఈ నగరానికి 'అటల్ నగర్' గా పేరు పెట్టుటకు నిర్ణయించబడింది.

- (1) విదిశ
- (2) నయా రాయ్పూర్
- (3) జబల్పూర్
- (4) బేతుల్

41. కింది ప్రాథమిక రాశులు వాటికి సరియైన SI ప్రమాణాల జతలను గుర్తించండి :

- | | | |
|----------------------|---|-----------|
| A. విద్యుత్ ప్రవాహము | : | ఆంపియర్ |
| B. శక్తి | : | W (Watt) |
| C. పీడనం | : | N/m^2 |
| D. ద్రవ్యరాశి | : | కిలోగ్రాం |

కింది నుండి సరైన సమాధానం ఎంచుకోండి.

- (1) A మరియు B మాత్రమే
- (2) B మరియు C మాత్రమే
- (3) C మరియు D మాత్రమే
- (4) D మరియు A మాత్రమే

42.

- A. Diseases caused by bacteria : Cholera, Tetanus, Leprosy, Anthrax
- B. Common protozoan diseases : Malaria, Amoebiasis, Diphtheria, AIDS
- C. Common fungal diseases : Taeniasis, Blastomycosis, Syphilis, Rabies
- D. Common viral diseases : Measles, Dengue, Rubella, Influenza

From the above lists, the correctly classified diseases are

- (1) D, C, B and A
- (2) Only D, B and A
- (3) Only D and A
- (4) Only C and B

42.

- A. బాక్టీరియా కారణంగా వచ్చు వ్యాధులు : కలరా, ధనుర్వాతం, కుష్టు, ఆంట్రాక్స్
- B. ప్రోటోజోవన్ల కారణంగా వచ్చు వ్యాధులు : మలేరియా, అమీబియాసిస్, కోరింతదగ్గు, ఎయిడ్స్
- C. ఫంగస్ కారణముగా వచ్చు వ్యాధులు : టీనియాసిస్, బ్లాస్టోమైకోసిస్, సిఫిలిస్, రాబిస్
- D. వైరస్ కారణముగా వచ్చు వ్యాధులు : పొంగు, డెంగ్యూ, రుబెల్లా, ఇన్ఫ్ల్యుయెంజ

పై వాటి నందు సరిగా వర్గీకరణ చేయబడిన వ్యాధులు.

- (1) D, C, B మరియు A
- (2) D, B మరియు A మాత్రమే
- (3) D మరియు A మాత్రమే
- (4) C మరియు B మాత్రమే

43. One of the following is *not* a micronutrient required for plant growth.

- (1) Molybdenum
- (2) Manganese
- (3) Magnesium
- (4) Copper

43. కింది వానిలో ఒకటి మొక్కల పెరుగుదలకు కావలసిన సూక్ష్మపోషకము కాదు

- (1) మాల్బిడినమ్
- (2) మాంగనీస్
- (3) మెగ్నీషియం
- (4) కాపర్

44. Which important Act for environmental protection was passed in the year 2002 in India ?

- (1) Wild Life Conservation Act
- (2) Tiger Conservation Act
- (3) Evergreen Trees Act
- (4) Biodiversity Act

45. The ultimate objective of the United Nations Framework Convention on Climate Change is

- (1) To stabilise green house gas concentrations in the atmosphere.
- (2) To increase our understanding of environmental disasters.
- (3) To work out plans to curtail environmental pollution.
- (4) To suggest changes to reverse the effects of environmental degradation.

46. Which award is instituted by the Government of India for individuals or communities from rural areas that have shown dedication for protecting wild life ?

- (1) Indira Gandhi Paryavaran Puraskar
- (2) Amritadevi Bishnoi Award
- (3) Pitambar Pant National Award
- (4) Sunderban Paryavaran Puraskar

47. The device used on ships to measure the depth of water is

- (1) Barometer
- (2) Nanometer
- (3) Fathometer
- (4) Hydrometer

44.

2002 వ సంవత్సరంలో భారత దేశంలో ఆమోదం పొందిన ముఖ్యమైన పర్యావరణ రక్షణ చట్టం

- (1) వైల్డ్ లైఫ్ కన్సర్వేషన్ యాక్ట్
- (2) టైగర్ కన్సర్వేషన్ యాక్ట్
- (3) ఎవర్ గ్రీన్ ట్రీస్ యాక్ట్
- (4) బయోడైవర్సిటీ యాక్ట్

45.

వాతావరణ మార్పుపై యునైటెడ్ నేషన్స్ ఫ్రేమ్ వర్క్ కన్వెన్షన్ యొక్క అంతిమ లక్ష్యం

- (1) వాతావరణంలో గ్రీన్ హౌస్ వాయువుల గాఢతను నిలకడగా ఉంచుట.
- (2) పర్యావరణ విపత్తులపై మనకు అవగాహనను పెంచుట.
- (3) పర్యావరణ కాలుష్యం తగ్గించుటకు ప్రణాళికలు సిద్ధం చేయుట.
- (4) పర్యావరణ క్షీణత యొక్క ప్రభావాలను తిప్పికొట్టడానికి తగిన మార్పులను సూచించడం.

46.

వన్య ప్రాణుల సంరక్షణకై అంకిత భావంతో కృషి చేస్తున్న గ్రామీణ వ్యక్తులు లేదా సంఘాలకు భారత ప్రభుత్వం ఇచ్చే పురస్కారము

- (1) ఇందిరా గాంధీ పర్యావరణ పురస్కార్
- (2) అమృతదేవి బైష్నోయి అవార్డ్
- (3) పీతాంబర్ పంత్ నేషనల్ అవార్డ్
- (4) సుందర్బన్ పర్యావరణ పురస్కార్

47.

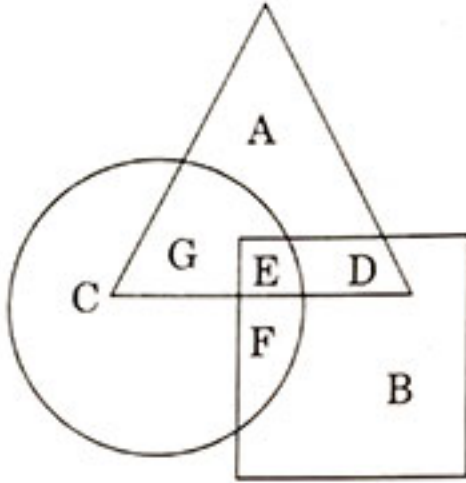
నౌకలపై నుండి నీటిలోతును కొలుచుటకు ఉపయోగించు పరికరము

- (1) బారోమీటర్
- (2) నానోమీటర్
- (3) ఫాథోమీటర్
- (4) హైడ్రోమీటర్

48. If $-$ means \div ; $+$ means \times ; \div means $-$; \times means $+$, then which of the following equations is correct ?

- (1) $52 \div 4 + 5 \times 8 - 2 = 36$
- (2) $43 \times 7 \div 5 + 4 - 8 = 25$
- (3) $36 \times 4 - 12 \times 5 \div 3 = 420$
- (4) $36 - 12 \times 8 \div 3 + 4 = 60$

49. In the following diagram, the circle represents the college professors, the triangle stands for surgical specialists and the square represents medical specialists. The surgical specialists who are also medical specialists but not professors are represented by



- (1) A
- (2) B
- (3) C
- (4) D

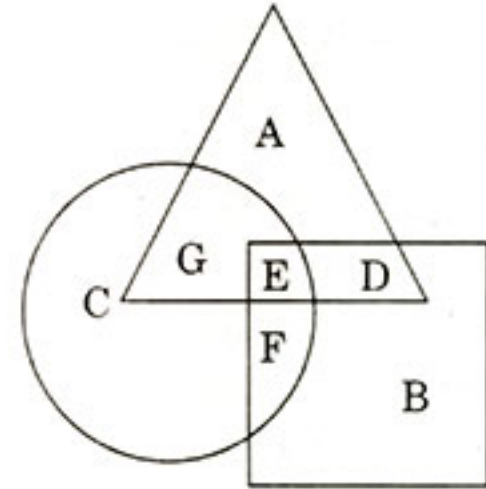
50. In a certain code, STATISTICS is coded as SCITSITATS. Which word would be coded as NOITINUMMA ?

- (1) ANMOMIUTNI
- (2) AMNTOMUIIN
- (3) AMMUNITION
- (4) NMMUNITION

48. $-$ అనగా \div ; $+$ అనగా \times ; \div అనగా $-$; \times అనగా $+$, అయిన ఈ సమీకరణములో ఏది నిజము

- (1) $52 \div 4 + 5 \times 8 - 2 = 36$
- (2) $43 \times 7 \div 5 + 4 - 8 = 25$
- (3) $36 \times 4 - 12 \times 5 \div 3 = 420$
- (4) $36 - 12 \times 8 \div 3 + 4 = 60$

49. క్రింది చిత్రములో వృత్తము అనునది కళశాల ఆచార్యులను, త్రిభుజము అనునది శస్త్రచికిత్స నిపుణులను మరియు చతురస్రము అనునది వైద్య నిపుణులను సూచిస్తుంది. అయిన శస్త్రచికిత్స నిపుణులు అయివుండి వైద్య నిపుణులు అగుచూ ఆచార్యులు కాని వారు ఎవరు



- (1) A
- (2) B
- (3) C
- (4) D

50. STATISTICS అను పదమును SCITSITATS అని సూచించిన యెడల NOITINUMMA అను పదమును ఏ విధముగా సూచించవచ్చును

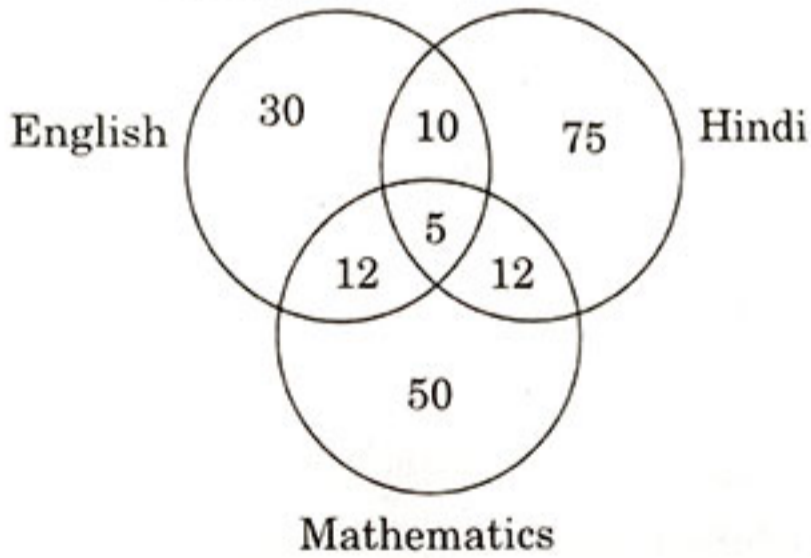
- (1) ANMOMIUTNI
- (2) AMNTOMUIIN
- (3) AMMUNITION
- (4) NMMUNITION

51. Reena is twice as old as Suma. Three years ago she was three times as old as Suma. How old (in years) is Reena now ?

- (1) 6
- (2) 7
- (3) 8
- (4) 12

52. Consider the Venn diagram.

Five hundred candidates appeared in an examination comprising of tests in English, Hindi and Mathematics. The diagram gives the number of candidates who failed in different tests. What is the percentage of candidates who failed in at least two subjects ?



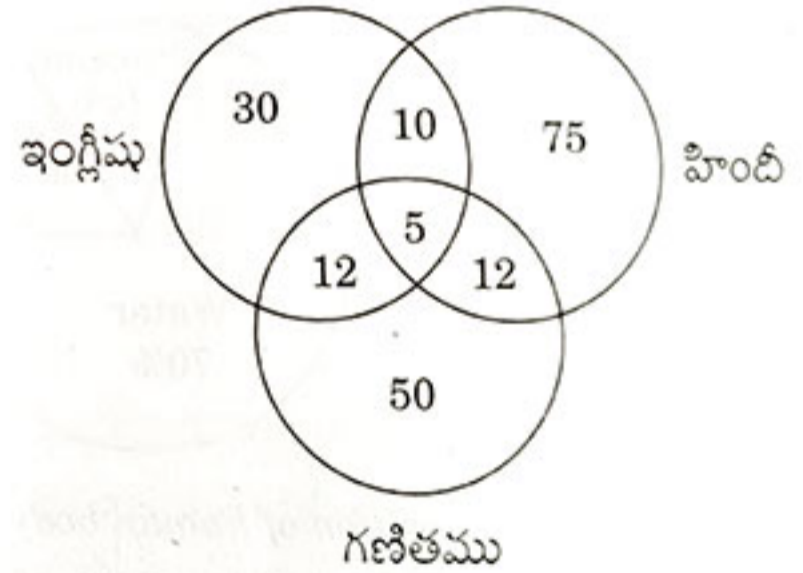
- (1) 0.078
- (2) 1.0
- (3) 6.8
- (4) 7.8

51. రీనా, సుమకన్న రెట్టింపు వయస్సు కలిగి ఉంది మూడు సంవత్సరాల పూర్వము ఆమె సుమవయస్సుకన్న మూడు రెట్లు ఎక్కువ వయస్సు కలిగి ఉంది. అయిన ప్రస్తుతము రీనా వయస్సు (సం. రాలలో)

- (1) 6
- (2) 7
- (3) 8
- (4) 12

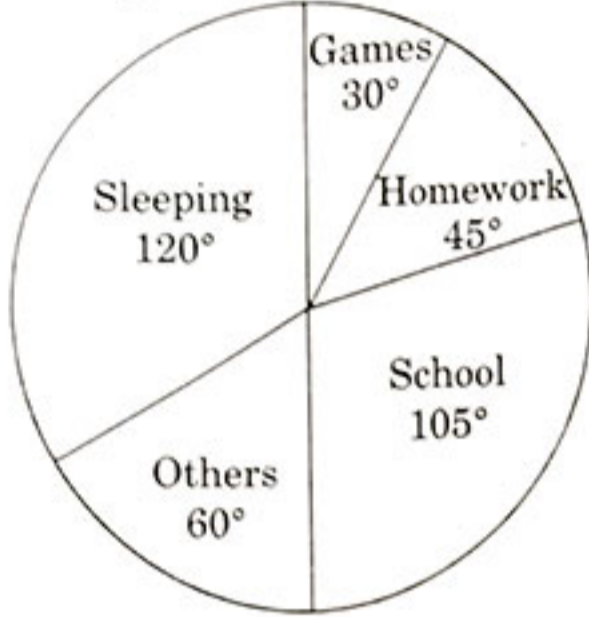
52. క్రింది వెన్ చిత్రాన్ని పరిశీలించండి.

ఇంగ్లీషు, హిందీ మరియు గణితములకు సంబంధించి 500 మంది పరీక్ష రాసారు. క్రింది వెన్ చిత్రం వివిధ పరీక్షలలో ఫెయిల్ అయిన వారి సంఖ్య తెలుపుతుంది. కనీసం రెండు సబ్జెక్టులలో, ఫెయిల్ అయిన వారి శాతమెంత ?



- (1) 0.078
- (2) 1.0
- (3) 6.8
- (4) 7.8

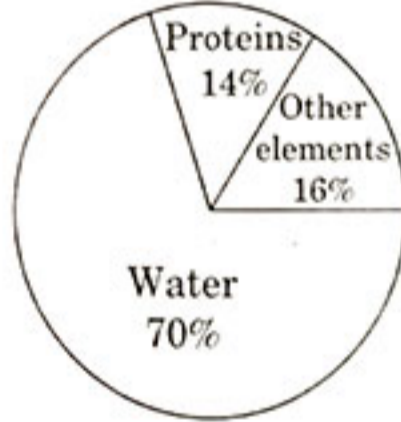
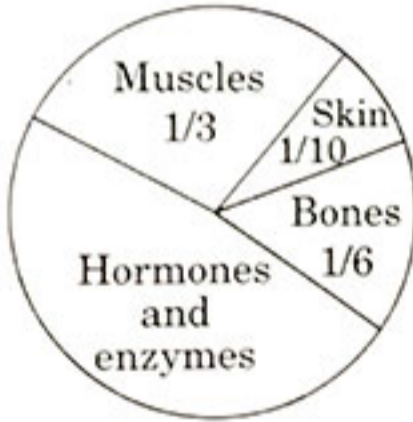
53. The pie diagram shows the hourly distribution of all major activities of a student. Observe the diagram and answer the following.



The percentage of time which he spends in school is

- (1) 37%
- (2) 29.16%
- (3) 40%
- (4) 27%

54. Study the following pie-diagrams carefully :

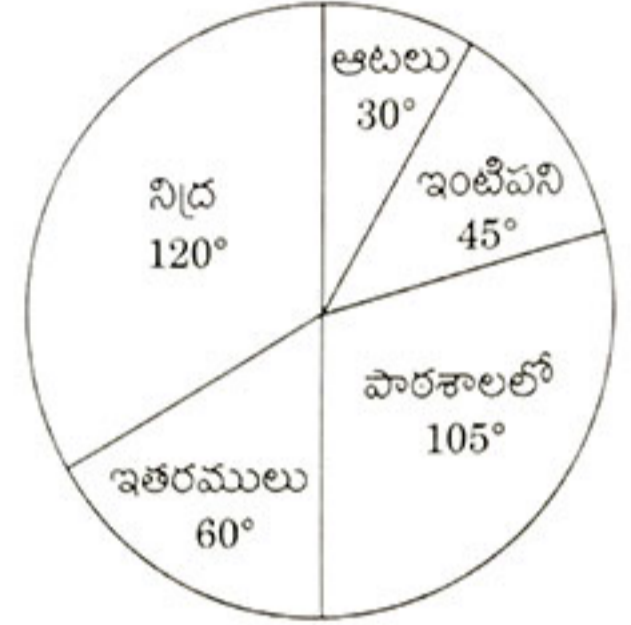


Percentage composition of human body

What percent of the total weight of the human body is equivalent to the weight of proteins in the skin of the human body ?

- (1) 0.014
- (2) 1.4
- (3) 0.14
- (4) 2.5

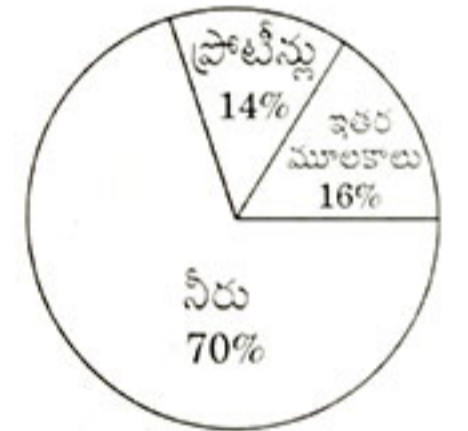
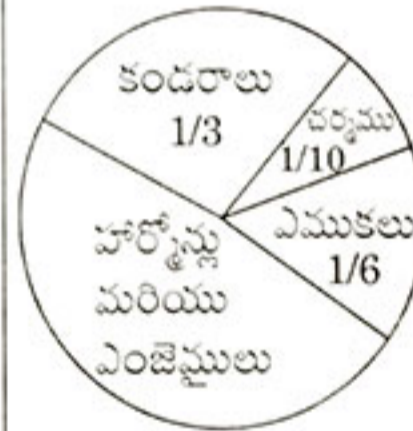
53. చూపబడిన పై చిత్రమునందు ఒక విద్యార్థి చేసే ప్రధాన కృత్యాలు చూపబడ్డాయి.



అయిన అతను పాఠశాలలోగడిపే సమయము యొక్క శాతము.

- (1) 37%
- (2) 29.16%
- (3) 40%
- (4) 27%

54. ఈ క్రింది పై వట్టికను జాగ్రత్తగా పరిశీలించండి



మానవ శరీరం యొక్క కూర్పు శాతము

శరీరం పూర్తి బరువు నందు చర్మము నందలి ప్రోటీనుల శాతమును కనుగొనుము

- (1) 0.014
- (2) 1.4
- (3) 0.14
- (4) 2.5

55. Two statements, A and B are given below :

- A. ROM is Read Only Memory which is a type of non-volatile memory used in computers and other electronic devices.
- B. Only data stored in ROM can be modified quickly with ease.

Pick up your answer from the following :

- (1) Both A and B are correct
- (2) Only B is correct
- (3) Only A is correct
- (4) B is correct, A is wrong

56. The present World Bank President is

- (1) Nikki Haley
- (2) Robert McNamara
- (3) Kristalina Georgieva
- (4) David Malpass

57. The Central Government's target is for providing clean drinking water to all by

- (1) 2021
- (2) 2022
- (3) 2023
- (4) 2024

55. క్రింద A మరియు B అనే రెండు ప్రవచనాలు ఇవ్వబడ్డాయి :

- A. ROM అనేది రీడ్ వోన్లీ మెమొరి, ఇది కంప్యూటర్లు, ఇతర ఎలక్ట్రానిక్ పరికరాలలో వాడే నాన్-వోలటైల్ మెమొరి.
- B. ROM నందు నిలవ ఉంచిన డేటాను త్వరగా సులభంగా మార్చగలము.

క్రింది వానిలో నుండి మీ సమాధానాన్ని ఎంపిక చేయండి :

- (1) A మరియు B రెండూ సరైనవే
- (2) B మాత్రమే సరైనది
- (3) A మాత్రమే సరైనది
- (4) B సరైనది, A సరైనది కాదు

56. ప్రస్తుత ప్రపంచ బ్యాంకు అధ్యక్షుడు

- (1) నిక్కి హేలె
- (2) రాబర్ట్ మెక్నమార
- (3) క్రిస్టలిన జార్జియా
- (4) డేవిడ్ మాలపాస్

57. కేంద్ర ప్రభుత్వం అందరికీ శుభ్రమైన త్రాగు నీటిని ఈ సంవత్సరానికి అందించాలని లక్ష్యంగా పెట్టుకుంది

- (1) 2021
- (2) 2022
- (3) 2023
- (4) 2024

58. The launch vehicle of Chandrayan-2 Mission to Moon is

- (1) GSLV-MK II
- (2) GSLV-MK IV
- (3) GSLV-MK III
- (4) GSLV-MK I

59. Consider the following statements :

- A. Increase in deposit rate results in higher savings.
- B. Increase in deposit rate results in fall in credit offtake.
- C. Increase in deposit rate results in increase in investment.

Which among the above statements is/are correct ?

- (1) A and B
- (2) A and C
- (3) A, B and C
- (4) Only A

60. The country hosting the next Olympics to be held in 2020 is

- (1) Japan
- (2) France
- (3) Qatar
- (4) South Korea

58. చంద్రుని పైకి చంద్రయాన్-2 మిషన్ కోసం ప్రయోగించబడిన వాహక నౌక

- (1) GSLV-MK II
- (2) GSLV-MK IV
- (3) GSLV-MK III
- (4) GSLV-MK I

59. కింది ప్రవచనాలను పరిగణనలోకి తీసుకోండి :

- A. డిపాజిట్ రేటు పెంపుదల ఫలితంగా పాదుపు పెరుగుతుంది.
- B. డిపాజిట్ రేటు పెంపుదల ఫలితంగా అప్పులు తీసికోవటం తగ్గుతుంది.
- C. డిపాజిట్ రేటు పెంపుదల ఫలితంగా పెట్టుబడులు పెరుగుతాయి.

పై వానిలో సరియైన ప్రవచనం/నాలు ఏది/ఏవి ?

- (1) A మరియు B
- (2) A మరియు C
- (3) A, B మరియు C
- (4) A మాత్రమే

60. 2020 లో ఒలింపిక్స్ కు అతిధ్యమివ్వనున్న దేశం

- (1) జపాన్
- (2) ఫ్రాన్స్
- (3) ఖతార్
- (4) దక్షిణ కొరియా

కింది గద్యమును చదివి 61 నుండి 65 వరకు గల ప్రశ్నలకు జవాబులు గుర్తించండి.

రాజు భీష్మకుండు విహిత ప్రకారంబులం బిత్తు దేవతల నర్పించి బ్రాహ్మణులకు భోజనములు పెట్టించి మంగళాశీర్ష్య చనంబులు చదివించి రుక్మిణీ దేవి నభిషిక్తం జేసి వస్త్రయుగళ భూషితంగావించి రత్న భూషణంబు లిడంజేసి ఋగ్యజుస్సామ మంత్రంబుల మంగళా చారంబు లొనరించి భూసురులు రక్షాకరణంబు లొనరించిరి. పురోహితుండు గ్రహశాంతి కొఱకు నిగమ నిగదిత న్యాయంబున హోమంబు గావించె మఱియు నారాజు దంపతుల మేలుకొఱకు దిలధేను కలధౌతకనక చేలాది దానంబులు ధరణీ దేవతల కొసంగెను.

61. రుక్మిణీ దేవి నభిషిక్తం జేసినది

- (1) బ్రాహ్మణుండు
- (2) పురోహితుండు
- (3) భీష్మకుండు
- (4) భూసురుండు

62. 'నిగమ నిగదిత న్యాయంబున' అనగా

- (1) పురాణములలో చెప్పబడిన రీతిగా
- (2) వేదములలో చెప్పబడిన విధంగా
- (3) వంశాచారాల ననుసరించి
- (4) ధర్మ దేవతలు చెప్పిన విధంగా

63. రాజు దంపతుల మేలుకొఱకొసంగిన దానము

- (1) వస్త్రము
- (2) ధనము
- (3) భూమి
- (4) అగ్రహారము

64. 'ధరణీ దేవతలు' - అనగా

- (1) రాజులు
- (2) బ్రాహ్మణులు
- (3) విశ్వ బ్రాహ్మణులు
- (4) హేమకారులు

65. పై పేరాలో పేర్కొనబడిన వేదాల సంఖ్య

- (1) ఒకటి
- (2) రెండు
- (3) మూడు
- (4) నాలుగు

66. I do not know very much _____ medieval history.

Choose the best option to fill in the blank.

- (1) about
- (2) on
- (3) in
- (4) with

67. Choose the correct sequence labelled as PQRS to produce the correct sentence.

had / experiences / I have / amazing

(P) (Q) (R) (S)

- (1) RPSQ
- (2) SPRQ
- (3) QPSR
- (4) QSPR

68. 'How are you ? I don't see you for ages ?

Choose the option which can replace the underlined sentence.

- (1) I haven't seen you for ages.
- (2) I saw you for ages.
- (3) I have saw you for ages.
- (4) I not seen you for ages.

Directions : (69 - 73) Read the passage given below and answer the questions based on it.

One of the reasons why Nature and relaxation are connected is that being in Nature helps us to connect with the present moment. We pay attention to the here and now. This moment and nothing else. We enjoy the beauty of the natural world and we stop having stressful thoughts, we stop worrying about the events of our lives. We simply enjoy the present moment in Nature. If you can't go outside, look at pictures of Nature, or watch a Nature video. Those who have watched videos of Nature, recovered faster from the stressful event. Through visualisation and relaxation learn how to create images of Nature in your mind. You will find great relaxation benefits using imagery.

- 69.** The author suggests
- (1) Spending time in Nature nurtures creativity
 - (2) Spending time in Nature helps in living in the present
 - (3) Spending time in Nature is a good substitute for physical exercise
 - (4) Spending time in Nature is a good means to waste time
- 70.** Which of the following is *not* mentioned as the method of bringing Nature into our life?
- (1) Looking at images of Nature
 - (2) Watching videos related to Nature
 - (3) Visualising images of Nature in the mind
 - (4) Drawing pictures of Nature
- 71.** How does Nature provide relaxation?
- (1) By helping us in forgetting the past and stressful thoughts
 - (2) By making us visualise the stressful thoughts and purifying those thoughts
 - (3) By making us think about our sweet memories
 - (4) By motivating us to plant trees in our house
- 72.** 'We enjoy the beauty of the natural world.' Here 'natural' is
- (1) A noun
 - (2) An adverb
 - (3) An adjective
 - (4) A verb
- 73.** According to the passage, watching a Nature video _____.
- (1) slows down the process of coming out of a stressful events
 - (2) does not have any effect on people undergoing stress
 - (3) makes them depressed in the long run
 - (4) accelerates the process of coming out of a stressful event
- 74.** At last I _____ finished my project !
Choose the correct option to fill in the blanks.
- (1) am
 - (2) did
 - (3) has
 - (4) have
- 75.** Choose the part labelled as A, B, C, D that has an error.
- My father / made me go /
(A) (B)
and apologise with / my friend.
(C) (D)
- (1) A
 - (2) B
 - (3) C
 - (4) D

PART B

పార్ట్ B

76. Which of the following pairs are correctly matched ?

- A. Kalachakra : Harihara Rayalu
 B. Amuktamalyada : Buddhist discourse
 C. Vddanda Raya : Vddandaraya palem
 D. Rudramba : Devotee of Shiva

- (1) Both C and D
 (2) Both B and C
 (3) Both A and B
 (4) Both A and C

77. Consider the following statements :

- A. Kannuganti Hanumanthu was the leader of the serious incident that occurred near the village Minchalapadu.
 B. The Rayalaseema Mahasabha was formed in 1934.
 C. The Rayalaseema Mahasabha demanded the creation of Sri Venkateswara University at Kurnool.

Which of the statements given above is/are correct ?

- (1) Only C
 (2) Both B and C
 (3) Both A and B
 (4) Both A and C

76. క్రింది వానిలో సరిగా జతపరచబడినవి ఏవి ?

- A. కాలచక్ర : హరిహర రాయలు
 B. ఆముక్తమాల్యద : బౌద్ధ ప్రసంగము
 C. ఉద్దండ రాయ : ఉద్దండరాయపాలెం
 D. రుద్రాంబ : శివ భక్తురాలు

- (1) C మరియు D రెండూ
 (2) B మరియు C రెండూ
 (3) A మరియు B రెండూ
 (4) A మరియు C రెండూ

77. క్రింది వాక్యములను పరిశీలించండి :

- A. మించాల పాడు గ్రామ సమీపంలో జరిగిన తీవ్రమైన సంఘటనకు కన్నుగంటి హనుమంతు నాయకుడు.
 B. రాయలసీమ మహాసభ 1934 లో ఏర్పాటు చేయబడింది.
 C. రాయలసీమ మహాసభ శ్రీవేంకటేశ్వర విశ్వవిద్యాలయాన్ని కర్నూలులో ఏర్పాటు చేయాలని కోరింది.

ఈ వాక్యములలో సరియైనవి ఏవి ?

- (1) C మాత్రమే
 (2) B మరియు C రెండూ
 (3) A మరియు B రెండూ
 (4) A మరియు C రెండూ

78. Consider the following statements concerning the Constitution (One Hundred and First Amendment) Act, 2016 :

- The Act introduced Goods and Services Tax (GST).
- The Act amended Sixth and Seventh Schedules of Indian Constitution.
- The Act empowered Karnataka Governor to take steps for developing Hyderabad - Karnataka region.
- The Act provided for the composition and function of National Judicial Appointments Commission.

Choose the correct answer from the following :

- Only D is correct
- Both A and B are correct
- Only C is correct
- A, B, C and D are correct

79. Identify the person who acted as the Chief Justice of the Supreme Court of India, President of India (Acting) and Vice President of India at different periods.

- Fakhruddin Ali Ahmed
- Mohammad Hidayatullah
- A.P.J. Abdul Kalam
- B.D. Jatti

78. భారత రాజ్యాంగం (నూట ఒకటో సవరణ) చట్టం, 2016 కు సంబంధించిన క్రింది ప్రకటనలను పరిశీలించండి :

- ఆ చట్టం వస్తు సేవల వస్తు (GST) ప్రవేశపెట్టింది.
- ఆ చట్టం రాజ్యాంగంలోని ఆరో మరియు ఏడో షెడ్యూళ్ళను సవరించింది.
- ఆ చట్టం హైదరాబాద్ - కర్నాటక ప్రాంతం అభివృద్ధికి చర్యలు తీసుకొనే అధికారాన్ని కర్నాటక గవర్నర్ కు ఇచ్చింది.
- ఆ చట్టం జాతీయ న్యాయమూర్తుల నియామకాల కమిషన్ ను ఏర్పాటు చేసింది.

క్రింద ఇవ్వబడిన వాటిలో సరియైన సమాధానాన్ని గుర్తించండి :

- D మాత్రమే సరియైనది
- A మరియు B లు రెండూ సరియైనవి
- C మాత్రమే సరియైనది
- A, B, C మరియు D సరియైనవి

79. భారత సుప్రీంకోర్టు ప్రధాన న్యాయమూర్తిగానూ, భారత రాష్ట్రపతి (తాత్కాలికం) గాను మరియు భారత ఉపరాష్ట్రపతిగానూ వివిధ కాలాలలో వ్యహరించిన వ్యక్తి

- ఫక్రుద్దీన్ ఆలీ అహమ్మద్
- మహమ్మద్ హిదయతుల్లా
- ఎ.పి.జె. అబ్దుల్ కలాం
- బి.డి. జత్తి

80. Which of these two have a common High Court ?

- (1) Tamil Nadu and Puducherry
- (2) Andhra Pradesh and Odisha
- (3) Gujarat and Rajasthan
- (4) Uttar Pradesh and Madhya Pradesh

81. Consider the following statements :

- A. Pradhan Mantri Suraksha Bima Yojana.
- B. Pradhan Mantri Jeevan Jyoti Bima Yojana.
- C. Sovereign Gold Bond Scheme.
- D. Kisan Vikas Patra Scheme.

Identify the Jan Suraksha Scheme(s).

- (1) Only C
- (2) Only D
- (3) Both C and D
- (4) Both A and B

82. The Chairman of the National Credit Council Study Group was

- (1) Prof. D.R. Gadgil
- (2) Prof. P.C. Mahalanobis
- (3) Prof. Amartya Sen
- (4) Prof. V.S. Vyas

83. APSSIDC, APSFC, APIIC help to promote the development of these industries.

- (1) Defence industries
- (2) Strategic industries
- (3) Small scale industries
- (4) Heavy industries

80. క్రింది వాటిలో ఏ రెంటికి ఉమ్మడి హైకోర్టు కలదు ?

- (1) తమిళనాడు మరియు పుదుచ్చేరి
- (2) ఆంధ్ర ప్రదేశ్ మరియు ఒడిషా
- (3) గుజరాత్ మరియు రాజస్థాన్
- (4) ఉత్తర ప్రదేశ్ మరియు మధ్య ప్రదేశ్

81. క్రింది వాక్యములను పరిశీలించండి :

- A. ప్రధాన మంత్రి సురక్ష బీమా యోజన.
- B. ప్రధాన మంత్రి జీవన జ్యోతి బీమా యోజన.
- C. సావరిన్ గోల్డ్ బాండ్ స్కీము.
- D. కిసాన్ వికాస్ పత్ర స్కీము.

జన సురక్షా స్కీములను గుర్తించండి.

- (1) C మాత్రమే
- (2) D మాత్రమే
- (3) C మరియు D రెండూ
- (4) A మరియు B రెండూ

82. నేషనల్ క్రెడిట్ కౌన్సిల్ స్టడీ గ్రూప్ చైర్మన్

- (1) ఆచార్య డి.ఆర్. గాడ్గిల్
- (2) ఆచార్య పి.సి. మహాలనోబిస్
- (3) ఆచార్య అమర్త్య సేన్
- (4) ఆచార్య వి.ఎస్. వ్యాస్

83. APSSIDC, APSFC, APIIC ఇవి ఈ

పరిశ్రమల అభివృద్ధికి తోడ్పడతాయి

- (1) రక్షణ పరిశ్రమలు
- (2) వ్యూహాత్మక పరిశ్రమలు
- (3) చిన్నతరహా పరిశ్రమలు
- (4) భారీ పరిశ్రమలు

84. Consider the following statements :

- A. According to Andhra Pradesh Statistical Abstract 2011 – 12, the decadal percentage growth rate of population in Kurnool district is 14.65.
- B. According to Andhra Pradesh Statistical Abstract 2011 – 12, Anantapur district occupied first place in area in our State.
- C. When compared with the population census 2001, according to 2011 census, the sex ratio declined in every district in our State.
- D. The fertility rate in Andhra Pradesh started to increase during 1990 decade.

Which of the statements given above is/are correct ?

- (1) Only C
- (2) Both C and D
- (3) Only D
- (4) Both A and B

84. క్రింది వాక్యాలను పరిశీలించండి :

- A. Andhra Pradesh Statistical Abstract 2011 – 12 ప్రకారం జనాభా దశాబ్దపు వృద్ధి రేటు శాతం కర్నూలు జిల్లాలో 14.65.
- B. Andhra Pradesh Statistical Abstract 2011 – 12 ప్రకారం మన రాష్ట్రంలో అనంతపురం జిల్లా విస్తీర్ణంలో మొదటి స్థానంలో ఉంది.
- C. 2001 జనాభా లెక్కలతో పోల్చి చూస్తే 2011 జనగణన వివరాల ప్రకారం మనరాష్ట్రంలో ప్రతి జిల్లాలోను స్త్రీ పురుషనిష్పత్తి తగ్గింది.
- D. ఆంధ్ర ప్రదేశ్‌లో సంతాన ఉత్పత్తి రేటు (fertility rate) 1990 దశకంలో పెరగటం ప్రారంభించింది.

ఈ వాక్యాలలో సరియైనవి ఏవి ?

- (1) C మాత్రమే
- (2) C మరియు D రెండూ
- (3) D మాత్రమే
- (4) A మరియు B రెండూ

85. The author of 'Social Contract' is

- (1) Robson
- (2) Rousseau
- (3) Ross
- (4) Reuter

86. According to MacIver, Society is a web of the following :

- (1) Family relationships
- (2) Social relationships
- (3) Religious relationships
- (4) Fraternal relationships

87. The scheme introduced in 2010 - 11 by the Union Government for rendering services to aid the all-round development of girls of 11 - 18 years on pilot basis :

- (1) Scheme for Adolescent Girls (SAG)
- (2) Scheme for Anganwadi Centres (SAWC)
- (3) Scheme for National Plan of Action for Children (NPAC)
- (4) Scheme for Direct Benefit Transfer (SDBT)

88. The second largest producer of wheat in the world is

- (1) Sri Lanka
- (2) Bangladesh
- (3) Indonesia
- (4) India

85. 'సాషియల్ కంట్రాక్ట్' రచయిత

- (1) రాబ్సన్
- (2) రూసో
- (3) రాస్
- (4) రూటెర్

86. మేకైవర్ ప్రకారం సమాజం అనేది క్రిందివాటి సమాహారం

- (1) కుటుంబ సంబంధాలు
- (2) సామాజిక సంబంధాలు
- (3) మత సంబంధాలు
- (4) సాభాత్వత్వ సంబంధాలు

87. కేంద్ర ప్రభుత్వం 2010 - 11 లో 11 - 18 సంవత్సరాల మధ్యగల బాలికల సమగ్ర అభివృద్ధికి అవసరమైన సేవలను అందించేందుకై క్రింది పథకాన్ని ప్రయోగాత్మకంగా ప్రవేశపెట్టింది

- (1) కౌమార బాలికల పథకం (SAG)
- (2) అంగన్వాడీ కేంద్రాల పథకం (SAWC)
- (3) పిల్లల జాతీయ కార్యచరణ ప్రణాళిక పథకం (NPAC)
- (4) సరాసరి లాభ బదిలీ పథకం (SDBT)

88. ప్రపంచంలో గోధుమను పండించే అతిపెద్ద రెండో దేశం

- (1) శ్రీలంక
- (2) బంగ్లాదేశ్
- (3) ఇండోనేషియా
- (4) ఇండియా

89. The two rivers flowing in Visakhapatnam district are
- (1) Sarada and Tandava
 - (2) Byneru and Tammileru
 - (3) Bahuda and Tanaya
 - (4) Pyderu and Kalangi
89. విశాఖసట్టణం జిల్లాలో ప్రవహించే రెండు నదులు
- (1) శారద మరియు తాండవ
 - (2) బైనేరు మరియు తమ్మిలేరు
 - (3) బహుదా మరియు తనయ
 - (4) పైడేరు మరియు కాళంగి
90. Superior quality limestone is available in the following areas of Andhra Pradesh :
- (1) Bhimavaram and Buggamadhavaram
 - (2) Jaggayyapet and Chintriyal
 - (3) Krishnapatnam and Muddanuru
 - (4) Jammalamadugu and Mydukuru
90. ఆంధ్ర ప్రదేశ్‌లో క్రింది ప్రాంతాలలో మేలైన నాణ్యత గల సున్నపురాయి లభిస్తుంది :
- (1) భీమవరం మరియు బుగ్గిమాధవరం
 - (2) జగ్గయ్యపేట మరియు చింతిర్యాల
 - (3) కృష్ణపట్నం మరియు ముద్దనూరు
 - (4) జమ్మలమడుగు మరియు మైదుకూరు
91. The Andhra Pradesh Reorganisation Act, 2014 was published in the Gazette of India on
- (1) March 1, 2014
 - (2) March 2, 2014
 - (3) March 2, 2015
 - (4) March 2, 2016
91. ఆంధ్ర ప్రదేశ్ పునర్వ్యవస్థీకరణ చట్టం 2014 భారతదేశ రాజ పత్రం (the Gazette of India) లో ఈ తేదీన ప్రచురితమైనది
- (1) మార్చి 1, 2014
 - (2) మార్చి 2, 2014
 - (3) మార్చి 2, 2015
 - (4) మార్చి 2, 2016

92. "The royalties payable on domestic onshore production of oil and gas shall accrue to the State in which such production takes place." This was included in this Schedule of the Andhra Pradesh Reorganisation Act, 2014

- (1) Tenth Schedule
- (2) Twelfth Schedule
- (3) Twenty-First Schedule
- (4) Ninth Schedule

93. A public sector undertaking of the Government of Andhra Pradesh established in the year 1956 with a single mission, which is for the socio-economic upliftment of Tribals in the State is

- (1) The Tribal Welfare Department
- (2) Andhra Pradesh Scheduled Tribes Cooperatives Finance Ltd.
- (3) Andhra Pradesh State Minorities Finance Corporation Ltd.
- (4) The Girijan Cooperative Corporation

94. Thirteen State Governments which included Andhra Pradesh have set up a Statutory Commission for

- (1) Minorities
- (2) Religious and Linguistic Minorities
- (3) WAKF Council
- (4) Women and Child Development

92. "దేశీయ సాగర తీరంలో ఉత్పత్తి అయ్యే చమురు మరియు సహజ వాయువుల పై చెల్లించాల్సిన రాయల్టీ ఆ ఉత్పత్తి ఏ రాష్ట్రంలో జరుగుతుందో ఆ రాష్ట్రానికే చెందుతుంది." దీనిని ఆంధ్ర ప్రదేశ్ పునర్వ్యవస్థీకరణ చట్టం 2014 లో ఈ షెడ్యూలులో పొందు పరచినారు

- (1) వదవ షెడ్యూలు
- (2) వన్నెండవ షెడ్యూలు
- (3) ఇరువది ఒకటవ షెడ్యూలు
- (4) తొమ్మిదవ షెడ్యూలు

93. ఇది 1956 లో రాష్ట్రంలోని గిరిజనుల సామాజిక - ఆర్థిక ఉద్ధరణ కొరకు ఆంధ్ర ప్రదేశ్ ప్రభుత్వం స్థాపించిన ప్రభుత్వ రంగ సంస్థ

- (1) ది ట్రిబల్ వెల్ఫేర్ డిపార్ట్మెంట్
- (2) ఆంధ్ర ప్రదేశ్ షెడ్యూల్డ్ ట్రిబ్స్ కో ఆపరేటివ్ ఫైనాన్స్ లిమిటెడ్
- (3) ఆంధ్ర ప్రదేశ్ రాష్ట్ర మైనారిటీస్ ఫైనాన్స్ కార్పొరేషన్ లిమిటెడ్
- (4) ది గిరిజన కో ఆపరేటివ్ కార్పొరేషన్

94. ఆంధ్ర ప్రదేశ్ తో కలిపి పదమూడు రాష్ట్రాలు నీరికి ఈ చట్ట బద్ధమైన కమిషన్ ను ఏర్పాటు చేసాయి

- (1) మైనారిటీలకు
- (2) రెలిజియస్ యండ్ లింగ్వెస్టిక్ మైనారిటీలకు
- (3) WAKF కౌన్సిల్ కు
- (4) విమెన్ అండ్ చైల్డ్ డెవలప్ మెంట్

95. Out of 21 large States in India, in the overall health performance of the National Health Index developed by NITI Aayog, Andhra Pradesh is ranked at this place (in 2018).
- (1) Tenth
 - (2) Eighth
 - (3) Eleventh
 - (4) Fourth
96. Consider the following statements :
- A. A complex mix of methods are needed to solve complex problems such as poverty.
- B. Economic and social issues are irrelevant in understanding poverty.
- Which of the statements given above is/are correct ?
- (1) Only A
 - (2) Only B
 - (3) Both A and B
 - (4) Neither A nor B
97. A Self Help Group member needs to show commitment by attending regular meetings to qualify for
- (1) Higher education
 - (2) Buying land
 - (3) Bank loan
 - (4) Asset generation
95. నీతి ఆయోగ్ చే అభివృద్ధి చేయబడిన జాతీయ ఆరోగ్య సూచిక భారత దేశంలోని 21 పెద్ద రాష్ట్రాలలో సంపూర్ణ ఆరోగ్యపని తీరు పై ఇచ్చిన రాంకులలో, ఆంధ్ర ప్రదేశ్ స్థానం (2018 లో)
- (1) పదవ స్థానం
 - (2) ఎనిమిదవ స్థానం
 - (3) పదకొండవ స్థానం
 - (4) నాల్గవ స్థానం
96. క్రింది వాక్యాలను పరిశీలించండి :
- A. పేదరికం వంటి క్లిష్టమైన సమస్యల పరిష్కారానికి క్లిష్టమైన మిశ్రమ పద్ధతులు అవసరమౌతాయి.
- B. పేదరికాన్ని అర్థం చేసుకోవడంలో ఆర్థిక సామాజిక అంశాలు అసంబద్ధం.
- పై వానిలో సరియైన ప్రవచనము(లు)
- (1) A మాత్రమే
 - (2) B మాత్రమే
 - (3) A మరియు B రెండూ
 - (4) A కాదు మరియు B కాదు
97. ఈ అర్హత సాధించడం కొరకు నిర్ణీత సమయాలలో జరిగే సమావేశాలకు హాజరు కావడం ద్వారా స్వయం సహాయక సంఘం సభ్యుడు నిబద్ధత చూపించాల్సి ఉంటుంది
- (1) ఉన్నత విద్య
 - (2) భూములు కొనడం
 - (3) బ్యాంక్ లోన్
 - (4) ఆస్తుల సృష్టి

98. Shree Nidhi Credit Co-operative Federation Limited is promoted by the Government and the

- (1) Self Help Groups
- (2) Village Organisations
- (3) Mandal Samakhyas
- (4) Zilla Samakhyas

99. Which of the following pairs are correctly matched ?

Schemes / Acts *Activities*

- | | | |
|--|---|--|
| A. Nutrition cum Day Care Centres | : | Integrated Child Development Scheme |
| B. National Rural Employment Guarantee Act | : | Enhancement of Livelihood Security of the Specified Households |
| C. Indira Kranthi Patham | : | Nutrition and Health Days |
| D. Nutrition cum Day Care Centres | : | Formation of Self Help Groups |

- (1) Only A and B
- (2) Only A and C
- (3) Only A and D
- (4) Only A, B and D

98. స్త్రీ నిధి క్రెడిట్ కో-ఆపరేటివ్ ఫెడరేషన్ లిమిటెడ్‌ను ప్రభుత్వం తోపాటు ప్రమోటు చేయునది

- (1) స్వయం సహాయక సంఘాలు
- (2) విలేజ్ ఆర్గనైజేషన్స్
- (3) మండల సమాఖ్యలు
- (4) జిల్లా సమాఖ్యలు

99. దిగువ పేర్కొన్న ఏ జతలు సరిగ్గా జత చేయబడినాయి

పథకాలు/ చట్టాలు కార్యక్రమాలు

- | | | |
|------------------------------------|---|---|
| A. న్యూట్రీషన్ కం డే కేర్ సెంటర్లు | : | సమీకృత శిశు అభివృద్ధి పథకం |
| B. జాతీయ గ్రామీణ ఉపాధి హామీ చట్టం | : | నిర్దిష్ట కుటుంబాల యొక్క జీవనోపాధి భద్రతను పెంపొందించడం |
| C. ఇందిర క్రాంతి పథకం | : | పోషణ మరియు ఆహార దినాలు |
| D. న్యూట్రీషన్ కం డే కేర్ సెంటర్లు | : | స్వయం సహాయక సంఘాల ఏర్పాటు |

- (1) A మరియు B మాత్రమే
- (2) A మరియు C మాత్రమే
- (3) A మరియు D మాత్రమే
- (4) A, B మరియు D మాత్రమే

100. Which one of the following pairs is/are correctly matched ?

- A. Chandragupta : Priyadarsi
 B. Kanishka : Devaputra
 C. Kujula Kadphises : Rajadhiraja
 D. Kalpasutra : Buddhist text

- (1) Both A and D
 (2) Both B and C
 (3) Both A and B
 (4) Both A and C

101. Sonti Ramamurthy was the first Indian ICS officer to hold the post of Chief Secretary to the Government of Madras Presidency. He hailed from

- (1) East Godavari district
 (2) West Godavari district
 (3) Vijayanagaram district
 (4) Visakhapatnam district

100. క్రింది వానిలో సరిగా జతపరచబడినవి ఏవి ?

- A. చంద్ర గుప్త : ప్రియదర్శి
 B. కనిష్కుడు : దేవపుత్ర
 C. కుజల కడ్ఫిస్ : రాజాధీరాజ
 D. కల్పసూత్ర : బౌద్ధమత గ్రంథము

- (1) A మరియు D రెండూ
 (2) B మరియు C రెండూ
 (3) A మరియు B రెండూ
 (4) A మరియు C రెండూ

101. మద్రాసు ప్రెసిడెన్సీ ప్రభుత్వ ముఖ్య కార్యదర్శి పదవిని చేపట్టిన మొదటి భారతీయ ICS అధికారి శొంటి రామ మూర్తి. అతడు ఈ జిల్లాకు చెందినవాడు

- (1) తూర్పు గోదావరి జిల్లా
 (2) పశ్చిమ గోదావరి జిల్లా
 (3) విజయనగరం జిల్లా
 (4) విశాఖపట్టణం జిల్లా

102. The fourth Nehru Literacy Award in 1971 was awarded to this woman for her outstanding contribution to the promotion of literacy in India.

- (1) Duvvuri Subbamma
- (2) Pratibha Bharati
- (3) Arutla Kamala Devi
- (4) Durgabai Deshmukh

103. The President of India can be removed from office through

- (1) No-Confidence motion
- (2) Impeachment process
- (3) Judicial process
- (4) All of the above

104. The first recommendation of Justice Srikrishna Commission (2010) was

- (1) Continuation of status quo of Andhra Pradesh
- (2) Bifurcation of Andhra Pradesh and Telangana and Rayalaseema
- (3) Continuation of Hyderabad region with coastal areas
- (4) Setting up of River Water Allocation Committee

102. భారత దేశంలో అక్షరాస్యత వ్యాప్తికి అందించిన విశేష సేవలకు గాను 1971 లో ఈమెకు నెహ్రూ సాహితీ అవార్డు ఇవ్వబడింది

- (1) దువ్వూరి సుబ్బమ్మ
- (2) ప్రతిభా భారతి
- (3) ఆరుట్ల కమలా దేవి
- (4) దుర్గాబాయి దేశముఖ్

103. భారత రాష్ట్రపతిని క్రింది పద్ధతి ద్వారా తొలగించవచ్చు

- (1) అవిశ్వాస తీర్మానం
- (2) అభిశంసన ప్రక్రియ
- (3) న్యాయ ప్రక్రియ
- (4) పైవన్నీయు

104. జస్టిస్ శ్రీకృష్ణ కమిషన్ (2010) చేసిన మొట్టమొదటి సూచన

- (1) ఆంధ్ర ప్రదేశ్ లో యదాతథ స్థితిని కొనసాగించడం
- (2) ఆంధ్ర ప్రదేశ్ ను తెలంగాణ, రాయలసీమలుగా విభజించడం
- (3) కోస్తాప్రాంతాలతో హైదరాబాద్ ప్రాంతాన్ని కలిపి కొనసాగించడం
- (4) నదీ జలాల పంపకం కమిటీ ఏర్పాటు

105. Consider the nature of the tenure of the different Lok Sabhas in India :

- The fifth Lok Sabha had longest tenure
- The eleventh Lok Sabha had a short tenure
- The first Lok Sabha was abruptly dissolved
- The sixteenth Lok Sabha completed its full tenure

Find out the correct answer from the above.

- Only A is correct
- Both C and D are correct
- Both B and C are correct
- A, B and D are correct

106. Voting age was reduced to 18 years in India through this Constitution Amendment Act in 1988.

- 60th
- 61st
- 62nd
- 63rd

107. The Chairman of the Agricultural Credit Review Committee is

- P.C. Mahalanobis
- A.M. Khusro
- D.R. Gadgil
- R.V. Gupta

105. భారత దేశంలో వివిధ లోక్సభల కాల పరిమితి స్వభావాన్ని పరిశీలించండి

- ఐదో లోక్సభ కాలపరిమితి ఎక్కువ
- పదకొండవ లోక్సభ కాలపరిమితి తక్కువ
- మొదటి లోక్సభ అర్థంతరంగా రద్దు అయింది
- పదహారో లోక్సభ కాలపరిమితి సంపూర్ణం

పైవాటిలో సరియైన సమాధానాన్ని గుర్తించండి :

- A మాత్రమే సరియైనది
- C మరియు D లు రెండూ సరియైనవి
- B మరియు C లు రెండూ సరియైనవి
- A, B మరియు D లు సరియైనవి

106. ఓటింగ్ వయోపరిమితిని 18 ఏండ్లకు తగ్గిస్తూ 1988 లో చేయబడిన రాజ్యాంగ సవరణ చట్టం

- 60వ
- 61వ
- 62వ
- 63వ

107. అగ్రికల్చరల్ క్రెడిట్ రివ్యూ కమిటీ చైర్మన్

- పి.సి. మహాలనోబిస్
- ఎ.ఎమ్. ఖుస్రో
- డి.ఆర్. గాడ్గిల్
- ఆర్.వి. గుప్తా

108. Identify the *wrongly* matched pair(s) from the following :

- A. UDAY Scheme : 2015
 B. PAHAL : L.P.G. Consumers
 C. CACP : 2007
 D. National Policy for Farmers : 1985

- (1) Only A
 (2) Only B
 (3) C and D
 (4) A and B

109. Consider the following statements :

- A. In Andhra Pradesh, the share of agriculture is increasing in the State's GSDP.
 B. The Andhra Pradesh Industrial Infrastructure Corporation is the nodal agency for Special Economic Zones in the State.
 C. IT sector is the fastest growing sector.
 D. Amrut Solar Power Plant is operating at Kadiri in Kurnool district.

Identify the statement(s) which is/are *not* correct.

- (1) Only B
 (2) B and C
 (3) Only C
 (4) A and D

108. క్రింది వానిలో తప్పుగా జతచేయబడిన జంటలను గుర్తించండి

- A. UDAY స్కీమ్ : 2015
 B. PAHAL : L.P.G. వినియోగదారులు
 C. CACP : 2007
 D. నేషనల్ ఫార్మర్స్ ఫర్ ఫార్మర్స్ : 1985

- (1) A మాత్రమే
 (2) B మాత్రమే
 (3) C మరియు D
 (4) A మరియు B

109. క్రింది వాక్యాలను పరిశీలించండి :

- A. ఆంధ్ర ప్రదేశ్ లో రాష్ట్రం యొక్క GSDP లో వ్యవసాయ రంగం వాటా పెరుగుచున్నది.
 B. ఆంధ్ర ప్రదేశ్ పారిశ్రామిక అవస్థాపన కార్పొరేషన్ (APIIC) రాష్ట్రంలోని ప్రత్యేక ఆర్థిక మండళ్ళకు నోడల్ ఏజెన్సీగా ఉన్నది.
 C. ఐ.టి. రంగం అత్యంత వేగంగా పెరుగుతున్న రంగం.
 D. అమృత్ సోలార్ పవర్ ప్లాంట్లు కర్నూలు జిల్లా లోని కదిరి వద్ద పనిచేస్తున్నది.

పై వాక్యాలలో సరికాని వాక్యాలను గుర్తించండి :

- (1) B మాత్రమే
 (2) B మరియు C
 (3) C మాత్రమే
 (4) A మరియు D

110. The origin of caste system is at first mentioned in this culture.

- (1) Indo-Aryan
- (2) Indo-Dravidian
- (3) Indo-European
- (4) Indo-German

111. Theory relating to the nature of society is

- (1) Patriarchal theory
- (2) Revolutionary theory
- (3) Idealist theory
- (4) Matriarchal theory

112. Two prominent persons associated with Chipko Movement in Uttar Pradesh during 1970s are

- (1) Sundarlal Bahuguna and Chandi Prasad Bhatt
- (2) B.D. Sharma and M.S. Swaminathan
- (3) Maneka Gandhi and Rajendra Singh
- (4) Panduranga Athavale and Vandana Siva

110. కుల వ్యవస్థ గురించి మొదటిసారిగా ఈ సంస్కృతి యందు ప్రస్తావించ బడింది

- (1) ఇండో-ఆర్యన్
- (2) ఇండో-ద్రవిడియన్
- (3) ఇండో-యూరోపియన్
- (4) ఇండో-జర్మన్

111. సమాజం స్వభావానికి సంబంధించిన సిద్ధాంతం

- (1) పితృస్వామిక సిద్ధాంతం
- (2) విప్లవాత్మక సిద్ధాంతం
- (3) ఆదర్శవాద సిద్ధాంతం
- (4) మాతృస్వామిక సిద్ధాంతం

112. 1970 దశకంలో ఉత్తర ప్రదేశ్ లో చిప్కో ఉద్యమానికి సంబంధించిన ఇద్దరు ప్రముఖ వ్యక్తులు

- (1) సుందరలాల్ బహుగుణ మరియు చండీ ప్రసాద్ భట్
- (2) బి.డి. శర్మ మరియు ఎమ్.ఎస్. స్వామినాథన్
- (3) మేనకా గాంధీ మరియు రాజేంద్ర సింగ్
- (4) పాడురంగ అథావలే మరియు వందనా శివ

113. Study on 'Development of Population Geography' was first introduced in the following University :

- (1) Punjab University, Chandigarh
- (2) C.T. University, Ludhiana
- (3) Punjabi University, Patiala
- (4) Guru Nanak Dev University, Amritsar

114. Shifting cultivation in North-East regions in India is known as

- (1) Jhum
- (2) Ladang
- (3) Milpa
- (4) Roka

115. The two respective names of the Ghats in Northern and Southern directions of Andhra Pradesh are

- (1) Eastern Ranges and Kadapa Ranges
- (2) Western Ghats and Southern Ghats
- (3) Mahendragiri Ranges and Erramala Ranges
- (4) Deccan Ghats and Kailasagiri Ghats

113. భారత దేశంలో మొదటిసారిగా క్రింది విశ్వవిద్యాలయంలో 'జనాభా భౌగోళిక శాస్త్రం అభివృద్ధి' అధ్యయనాన్ని క్రింది విశ్వవిద్యాలయంలో ప్రవేశపెట్టారు

- (1) పంజాబ్ విశ్వవిద్యాలయం, చండీగఢ్
- (2) సి.టి. విశ్వవిద్యాలయం, లూధియాన
- (3) పంజాబీ విశ్వవిద్యాలయం, పాటియాల
- (4) గురు నానక్ దేవ్ విశ్వవిద్యాలయం, అమృతసర్

114. భారత దేశంలో ఈశాన్య ప్రాంతాలలో సాగు మార్పిడి సేద్యాన్ని ఈ విధంగా పిలుస్తారు

- (1) రుముమ్
- (2) లడాంగ్
- (3) మిల్పా
- (4) రోకా

115. ఆంధ్ర ప్రదేశ్‌లో ఉత్తర మరియు దక్షిణ కనుమల యొక్క పేర్లు వరుసగా

- (1) తూర్పు శ్రేణులు మరియు కడప శ్రేణులు
- (2) పశ్చిమ కనుమలు మరియు దక్షిణ కనుమలు
- (3) మహేంద్రగిరి శ్రేణులు మరియు ఎర్రమల శ్రేణులు
- (4) దక్కన్ ఘాట్లు మరియు కైలాసగిరి ఘాట్లు

- 116.** The largest and smallest populous States in India are respectively
- (1) Maharashtra and Kerala
 - (2) Uttar Pradesh and Sikkim
 - (3) Andhra Pradesh and Haryana
 - (4) Madhya Pradesh and Punjab
- 117.** "The Government of India shall establish the AIIMS type Super Specialty Hospital cum Training Institution in the successor state of Andhra Pradesh." This was included in this Schedule of the Andhra Pradesh Reorganization Act, 2014.
- (1) Tenth Schedule
 - (2) Thirteenth Schedule
 - (3) Ninth Schedule
 - (4) Eighth Schedule
- 118.** According to the hierarchy, the Commissioner of the Social Welfare Department of Andhra Pradesh is directly answerable to
- (1) The Minister of Social Welfare, Tribal Welfare and Empowerment
 - (2) The Principal Secretary to the Government
 - (3) Additional Directors
 - (4) The Chief Minister
- 116.** భారత దేశంలో జనాభా పరంగా అతిపెద్దదైన అతిచిన్నదైన రాష్ట్రాలు వరుసగా
- (1) మహారాష్ట్ర మరియు కేరళ
 - (2) ఉత్తర ప్రదేశ్ మరియు సిక్కిం
 - (3) ఆంధ్ర ప్రదేశ్ మరియు హర్యానా
 - (4) మధ్య ప్రదేశ్ మరియు పంజాబ్
- 117.** "అఖిల భారత వైద్య విజ్ఞాన సంస్థ వంటి సూపర్ స్పెషాలిటీ వైద్యశాల బోధనా సంస్థతో కలిపి, కొత్తగా ఏర్పడే ఆంధ్ర ప్రదేశ్ రాష్ట్రంలో భారత ప్రభుత్వం స్థాపిస్తుంది." దీనిని ఆంధ్ర ప్రదేశ్ పునర్వ్యస్థీకరణ చట్టం 2014 లో ఈ షెడ్యూలులో పొందు పరచినారు
- (1) పదవ షెడ్యూలు
 - (2) పదమూడవ షెడ్యూలు
 - (3) తొమ్మిదవ షెడ్యూలు
 - (4) ఎనిమిదవ షెడ్యూలు
- 118.** వరుసక్రమం ప్రకారం ఆంధ్ర ప్రదేశ్ సాంఘిక సంక్షేమ శాఖకు చెందిన కమీషనర్ నేరుగా వీరికి జవాబుదారీగా ఉంటారు
- (1) సాంఘిక సంక్షేమ, ట్రిబల్ సంక్షేమ మరియు సాధికారత మంత్రికి
 - (2) ప్రభుత్వానికి ప్రిన్సిపల్ సెక్రటరీకి
 - (3) అదనపు డైరెక్టర్ నకు
 - (4) ముఖ్య మంత్రికి

119. Implementation programmes that encourage social integration is one of the specific aims of

- (1) Scheduled Tribes Finance Corporation
- (2) Backward Classes Welfare Department
- (3) Andhra Pradesh Scheduled Castes Cooperative Finance Ltd.
- (4) Andhra Pradesh State Minorities Finance Ltd.

120. The weavers who are included in this scheme are automatically covered by the group insurance scheme.

- (1) Provident Fund Scheme
- (2) Health Package Scheme
- (3) Thrift Fund Scheme
- (4) Deen Dayal Scheme

121. The assessment of gender differential impact of the budget to take forward the translation of gender commitments to budgetary allocations is called

- (1) Gender Allocation
- (2) Gender Budgeting
- (3) Gender Equality
- (4) Gender Performance

119. సామాజిక సమైక్యతను ప్రోత్సహించే కార్యక్రమాల అమలు అనేది దీని యొక్క ఒక నిర్దిష్ట లక్ష్యం

- (1) షెడ్యూల్డ్ ట్రిబ్స్ ఫైనాన్స్ కార్పొరేషన్
- (2) వెనుకబడిన తరగతుల సంక్షేమ శాఖ
- (3) ఆంధ్ర ప్రదేశ్ షెడ్యూల్డ్ కులాల కో-ఆపరేటివ్ ఫైనాన్స్ లిమిటెడ్
- (4) ఆంధ్ర ప్రదేశ్ రాష్ట్రమైనారిటీల ఫైనాన్స్ లిమిటెడ్

120. ఈ పథకంలో చేర్చబడ్డ చేనేత కార్మికులు అప్రయత్నంగా ఈ గ్రూపు ఇన్సూరెన్స్ పథకం పరిధిలోకి వస్తారు

- (1) ప్రావిడెంట్ ఫండ్ స్కీమ్
- (2) హెల్త్ ప్యాకేజి స్కీమ్
- (3) త్రిఫ్త్ ఫండ్ స్కీమ్
- (4) దీన్ దయాల్ స్కీమ్

121. బడ్జెట్ పై లింగ భేద ప్రభావ అంచనాను లింగ నిబద్ధతతో బడ్జెట్ కేటాయింపుల ద్వారా ముందుకు తీసుకొని పోవుటను ఇలా అంటారు

- (1) లింగ కేటాయింపు
- (2) లింగ బడ్జెటింగ్
- (3) లింగ సమానత్వం
- (4) లింగ నిష్పాదన

122. A common factor for the continuation of membership in a Self Help Group is that the woman member should

- (1) be a money lender
- (2) be living in a pucca house
- (3) be educated
- (4) make regular savings contributions

123. Community managed sustainable agriculture is a part of

- (1) Training of Rural Youth for Self-Employment
- (2) Sree Shakthi Scheme
- (3) Society for Elimination of Rural Poverty
- (4) National Mission for Empowerment of Women

124. Women empowerment includes a woman's participation in improving her well-being, for which she needs to

- (1) participate in decision-making
- (2) have access to information
- (3) have formal education
- (4) be allowed to buy gold

122. స్వయం సహాయక సంఘం సభ్యత్వ కొనసాగింపునకు ఆ మహిళా సభ్యురాలికి కావలసిన సాధారణ అంశం

- (1) రుణదాత అయ్యుండాలి
- (2) పక్కా గృహంలో నివసించి ఉండాలి
- (3) చదువుకొని ఉండాలి
- (4) క్రమం తప్పకుండా పొదుపు చేయాలి

123. సమాజం చేత నిర్వహించబడే సుస్థిర వ్యవసాయం అనేది దీనిలో భాగం

- (1) ట్రైనింగ్ ఫర్ రూరల్ యూత్ ఫర్ సెల్ఫ్ ఎంప్లాయిమెంట్
- (2) శ్రీ శక్తి స్కీమ్
- (3) సొసైటీ ఫర్ ఎలిమినేషన్ ఆఫ్ రూరల్ పావర్టీ
- (4) నేషనల్ మిషన్ ఫర్ ఎంపవర్మెంట్ ఆఫ్ విమెన్

124. మహిళా శ్రేయస్సుకోసం మహిళా సాధికారతలో మహిళ పాల్గొనడం ద్వారా కావలసినది

- (1) నిర్ణయం తీసుకొనుటలో పాల్గొనుట
- (2) అందుబాటులో సమాచారం
- (3) నియతవిద్య ఉండుట
- (4) బంగారంకొనడానికి అనుమతి కలిగిఉండడం

125. Nannaya began to translate the Mahabharata into Telugu from Sanskrit at the instance of the ruler

- (1) Rajendra Chola
- (2) Vishnuvardhan
- (3) Kulottunga Chola
- (4) Raja Raja Narendra

126. "Administration cannot be the work of one man, just as one wheel cannot drive a cart." This is stated by

- (1) Kautilya
- (2) Megasthenes
- (3) Fa-Hien
- (4) Plutarch

127. The South Indian Liberal Federation (SILF) was inaugurated to safeguard the interests of

- (1) Brahmins
- (2) Non-Brahmins
- (3) South Indians
- (4) South Andhras

128. In 1954, the highest civilian award in India, "Bharat Ratna" was given to

- (1) Rajendra Prasad
- (2) S. Radhakrishnan
- (3) Dhondo Keshav Karve
- (4) Purushottam Das Tandon

125. ఈ పరిపాలకుని సూచన మేరకు నన్నయ మహాభారతమును సంస్కృతము నుండి తెలుగులోనికి అనువదించడం ప్రారంభించినాడు

- (1) రాజేంద్ర చోళుడు
- (2) విష్ణువర్ధనుడు
- (3) కులోత్తుంగ చోళుడు
- (4) రాజ రాజ నరేంద్రుడు

126. "ఏ విధముగా ఒక బండిని ఒంటి చక్రముతో నడపలేమో, పరిపాలనా యంత్రాంగ నిర్వహణ ఒక్క వ్యక్తి వల్లకాదు." దీనిని చెప్పినవారు

- (1) కౌటిల్యుడు
- (2) మెగస్తనీసు
- (3) ఫా-హియాన్
- (4) ప్లూటార్చ్

127. ది సౌత్ ఇండియన్ లిబరల్ ఫెడరేషన్ (SILF) వీరి ప్రయోజనాలను పరిరక్షించడానికి ప్రారంభించబడినది

- (1) బ్రాహ్మణులు
- (2) బ్రాహ్మణేతరులు
- (3) దక్షిణ భారతీయులు
- (4) దక్షిణ ఆంధ్రులు

128. భారత దేశంలో అత్యున్నత పౌర పురస్కారం "భారత రత్న" 1954 లో వీరికి ఇవ్వబడింది

- (1) రాజేంద్ర ప్రసాద్
- (2) ఎస్. రాధాకృష్ణన్
- (3) ధోండ్ కేశవ్ కార్వే
- (4) పురుషోత్తమ్ దాస్ టాండన్

129. The total strength of the Union Council of Ministers shall not exceed 15% of the total number of members of the Lok Sabha under the following Constitution Amendment Act, 2003 :

- (1) 91st
- (2) 92nd
- (3) 93rd
- (4) 94th

130. Read the following statements that are concerned with the Vice President of India :

- A. The Vice President acts as the President of India in the event of death, resignation or removal of the President of India for a period not exceeding six months.
- B. The Vice President acts as the Supreme Court Chief Justice when the latter's tenure expires.
- C. The Vice President acts as the Prime Minister of India when the latter resigns from his office.
- D. The Vice President acts as the Ex-officio Chairman of the Rajya Sabha.

Identify the correct statement(s) from the above.

- (1) Only A is correct
- (2) B and C are correct
- (3) A and D are correct
- (4) B, C and D are correct

129. 2003 లో చేసిన క్రింది రాజ్యాంగ సవరణ చట్టం ప్రకారం కేంద్ర మంత్రిమండలిలోని మొత్తం సభ్యుల సంఖ్య లోక్ సభ మొత్తం సభ్యులలో 15 శాతానికి మించరాదు :

- (1) 91వ
- (2) 92వ
- (3) 93వ
- (4) 94వ

130. భారత ఉప రాష్ట్రపతికి సంబంధించిన క్రింది ప్రవచనాలు చదవండి :

- A. భారత రాష్ట్రపతి మరణించినపుడు, రాజీనామాచేసినప్పుడు లేదా పదవినుంచి తొలగించినప్పుడు భారత ఉపరాష్ట్రపతి ఆరు నెలలు మించకుండా భారత రాష్ట్రపతిగా వ్యవహరిస్తాడు.
- B. భారత సుప్రీం కోర్టు ప్రధాన న్యాయమూర్తి పదవీవిరమణ చేసినపుడు భారత ఉపరాష్ట్రపతి భారత సుప్రీం కోర్టు ప్రధాన న్యాయ మూర్తిగా వ్యవహరిస్తాడు.
- C. భారత ప్రధాన మంత్రి రాజీనామా చేసినచో, భారత ఉపరాష్ట్రపతి భారత ప్రధాన మంత్రిగా వ్యవహరిస్తాడు.
- D. భారత ఉపరాష్ట్రపతి రాజ్య సభకు పదవిరీత్యా చైర్మన్ గా వ్యవహరిస్తాడు.

పై ప్రవచనాల నుండి సరియైన వాటిని గుర్తించండి.

- (1) A మాత్రమే సరియైనది
- (2) B మరియు C మాత్రమే సరియైనవి
- (3) A మరియు D మాత్రమే సరియైనవి
- (4) B, C మరియు D మాత్రమే సరియైనవి

131. Panchayati Raj Day is celebrated every year on

- (1) April 22
- (2) April 23
- (3) April 24
- (4) April 25

132. The Prime Minister highlighted the importance of the Governing Council of NITI Aayog as a platform to inspire

- (1) Co-operative federalism
- (2) Co-operative feudalism
- (3) Co-operative farming
- (4) Co-operative financing

133. Consider the following :

- A. Rourkela Steel Plant was set up with the help of Germany.
- B. Durgapur Steel Plant was set up with the assistance of U.S.S.R.
- C. Steel Authority of India Limited was established in 1974.
- D. Bhilai Steel Plant was established in 1973.

Which of the statement(s) given above is/are correct ?

- (1) Only B
- (2) Only D
- (3) Both A and C
- (4) Both B and D

131. ప్రతియేటా పంచాయతి రాజ్ దినోత్సవాన్ని ఈ రోజున జరుపుకొంటారు

- (1) ఏప్రిల్ 22
- (2) ఏప్రిల్ 23
- (3) ఏప్రిల్ 24
- (4) ఏప్రిల్ 25

132. దీనిని ప్రోత్సహించడానికి ఒక వేదికగా గవర్నింగ్ కౌన్సిల్ ఆఫ్ నీతి ఆయోగ్ ప్రాముఖ్యతను ప్రధాన మంత్రి నొక్కి వక్కాణించారు

- (1) సహకార సమాఖ్య వ్యవస్థ
- (2) సహకార భూస్వామ్య వ్యవస్థ
- (3) సహకార వ్యవసాయం
- (4) సహకార విత్త విధానం

133. క్రింది వాక్యములను పరిశీలించండి :

- A. రూర్కెలా స్టీలు ప్లాంట్లు జర్మనీ సహాయంతో స్థాపించబడింది.
- B. దుర్గాపూర్ స్టీలు ప్లాంట్లు యు.ఎస్.ఎస్.ఆర్. సహాయంతో స్థాపించబడింది.
- C. స్టీలు అథారిటీ ఆఫ్ ఇండియా లిమిటెడ్ 1974 లో స్థాపించబడింది.
- D. భిలాయి స్టీలు ప్లాంట్లు 1973 లో స్థాపించబడింది.

ఈ వాక్యాలలో సరియైనవి ఏవి ?

- (1) B మాత్రమే
- (2) D మాత్రమే
- (3) A మరియు C రెండూ
- (4) B మరియు D రెండూ

134. In India, high grade quality mica, capable of earning huge foreign exchange is available in this district of our state.

- (1) Nellore
- (2) Krishna
- (3) Guntur
- (4) East Godavari

135. The definition "Society is the complex of organised associations and institutions within the community" is given by

- (1) Giddings
- (2) Ginsberg
- (3) Harkins
- (4) G.D.H. Cole

136. Consider the following statements :

- A. Early Greek political thinkers did not make a distinction between state and society.
- B. Barker viewed that society is not held together by the state.
- C. MacIver explained that social motives control the state.
- D. Rousseau held that state of nature was a period of peace.

Of the above, identify the *wrong* statement.

- (1) Only B is wrong
- (2) Both B and C are wrong
- (3) Only C is wrong
- (4) All the given options are wrong

134. మన దేశంలో ఎక్కువ విదేశీమారక ద్రవ్యాన్ని తెచ్చి పెట్టే, ఉత్తమ శ్రేణి అబ్రకం మన రాష్ట్రంలోని ఈ జిల్లాలో లభిస్తుంది

- (1) నెల్లూరు
- (2) కృష్ణా
- (3) గుంటూరు
- (4) తూర్పు గోదావరి

135. "సముదాయంలోని వ్యవస్థీకృతమైన సంస్థలు, వ్యవస్థల సమాహారమే సమాజం" అని నిర్వచించినది

- (1) గిడ్డింగ్స్
- (2) గిన్సబర్గ్
- (3) హార్కిన్స్
- (4) జి.డి.హెచ్. కోల్

136. క్రింది ప్రకటనలను పరిశీలించండి :

- A. తొలి గ్రీకు రాజనీతి మేధావులు రాజ్యం, సమాజం మధ్య వ్యత్యాసం చూపలేదు.
- B. రాజ్యం చెప్పుచేతలలో సమాజం లేదని బార్కర్ భావించాడు.
- C. సాంఘిక ప్రేరణలు రాజ్యాన్ని నియంత్రిస్తాయని మాకైవర్ పేర్కొన్నాడు.
- D. రూసో ప్రకారం ప్రాకృతిక వ్యవస్థ అనేది శాంతితో కూడినది.

పై వాటిలో తప్పు ప్రకటన(లు) గుర్తించండి.

- (1) B మాత్రమే తప్పు
- (2) B మరియు C లు రెండూ తప్పు
- (3) C మాత్రమే తప్పు
- (4) అన్ని జవాబులు తప్పు

137. The previous name of the 'Protection of Civil Rights Act, 1955' as amended in 1976 is

- (1) The Untouchability (Offences) Act, 1955
- (2) The Non-discrimination (Offences) Act, 1955
- (3) The Cancellation of Untouchability Act, 1955
- (4) The Eradication of Caste Act, 1955

138. Consider the following statements :

- A. Ministry of AYUSH was formed in 2014.
- B. Previous name of AYUSH Ministry is Department of Indian System of Medicine and Health.
- C. AYUSH presently is under the Union Home Affairs Ministry.
- D. Recently the Tibetan Health Tradition, Sowa-Rigpa has been added in AYUSH.

Identify the correct combination of sentences from the above.

- (1) A is correct and D is wrong
- (2) Both A and D are correct
- (3) Both B and C are correct
- (4) B is wrong and C is correct

137. 1976 లో సవరించిన 'పౌరహక్కు ఏ పరిరక్షణ చట్టం, 1955' పూర్వపుపేరు

- (1) అస్పృశ్యతా (నేరాలు) చట్టం, 1955
- (2) విచక్షణా లేమి (నేరాలు) చట్టం, 1955
- (3) అస్పృశ్యతారద్దు చట్టం, 1955
- (4) కులనిర్మూలన చట్టం, 1955

138. క్రింది వాక్యాలను పరిశీలించండి :

- A. 2014 లో ఆయుష్ మంత్రిత్వ శాఖ ఏర్పాటయింది.
- B. ఆయుష్ మంత్రిత్వ శాఖ పూర్వపుపేరు భారతీయ వైద్య మరియు ఆరోగ్య విధాన శాఖ.
- C. ఆయుష్ ప్రస్తుతం కేంద్ర హోం శాఖలో భాగంగా ఉంది.
- D. ఇటీవల 'ఆయుష్'లో టిబెటన్ ఆరోగ్య పద్ధతియైన 'సోవా-రిగ్పా' ను చేర్చడమైంది.

పై వాటిలో సరియైన వాక్య సముదాయాలను గుర్తించండి.

- (1) A ఒప్పు మరియు D తప్పు
- (2) A మరియు D రెండూ ఒప్పు
- (3) B మరియు C రెండూ ఒప్పు
- (4) B తప్పు మరియు C ఒప్పు

139. According to the Meteorology Department of Indian Government, monsoons in November are termed as

- (1) Changing South-West Monsoons
- (2) Constant South-West Monsoons
- (3) Progressive South-West Monsoons
- (4) Retreating South-West Monsoons

140. The programme meant for developing of about 34,800 km length of economic corridors in India is

- (1) Bharatmala Parikrama
- (2) Bharatmala Parikriya
- (3) Bharatmala Prayojana
- (4) Bharatmala Pariyojana

141. Another name of Srisaillam Hydel Power Project is

- (1) Neelam Sanjiva Reddy Sagar Project
- (2) Y.S. Rajasekhar Reddy Sagar Project
- (3) Kotla Vijaya Bhaskara Reddy Sagar Project
- (4) Damodaram Sanjivaiah Sagar Project

139. భారత ప్రభుత్వ వాతావరణ శాఖ ప్రకారం నవంబరులోని రుతు పవనాలను క్రింది విధంగా పిలుస్తారు

- (1) మారుతున్న నైరుతి రుతు పవనాలు
- (2) స్థిరమైన నైరుతి రుతు పవనాలు
- (3) పురోగాత్యక నైరుతి రుతు పవనాలు
- (4) తిరోగమన నైరుతి రుతు పవనాలు

140. భారత దేశంలో సుమారు 34,800 కిమీల పొడవైన కారిడార్లను అభివృద్ధి చేసేందుకు ఉద్దేశించబడిన పథకం

- (1) భారతమాల పరిక్రమ
- (2) భారతమాల పరిక్రియ
- (3) భారతమాల ప్రయోజన
- (4) భారతమాల పరియోజన

141. శ్రీశైలం హైడల్ పవర్ ప్రాజెక్టుకు గల మరోపేరు

- (1) నీలం సంజీవ రెడ్డి సాగర్ ప్రాజెక్టు
- (2) వై.ఎస్. రాజశేఖర రెడ్డి సాగర్ ప్రాజెక్టు
- (3) కోట్ల విజయ భాస్కర రెడ్డి సాగర్ ప్రాజెక్టు
- (4) దామోదరం సంజీవయ్య సాగర్ ప్రాజెక్టు

142. Consider the following statements :

- As per the Andhra Pradesh Reorganisation Act, 2014, the expenditure in respect of salaries and allowances of the judges of the common High Court shall be allocated amongst the States of Andhra Pradesh and Telangana on the basis of population ratio.
- The expenditure in respect of salaries and allowances of the judges of the common High Court shall be allocated amongst the States of Andhra Pradesh and Telangana on the basis of revenue ratio.
- Section-35 deals with the special provisions relating to Bar Council and Advocates.
- Section-36 deals with custody of seal of Andhra Pradesh High Court.

Which of the statements given above is/are correct ?

- Only C
- Only B
- A and D
- C and D

143. The Tribal Welfare Department has been accorded permission for converting 50 tribal welfare hostels into

- Guest houses
- Boarding houses
- Residential schools
- Youth hostels

142. క్రింది వాక్యములను పరిశీలించండి :

- ఆంధ్ర ప్రదేశ్ పునర్వ్యవస్థీకరణ చట్టం, 2014 ప్రకారం ఉమ్మడి (common) హైకోర్టు న్యాయ మూర్తుల జీతాలు మరియు అలవెన్సులు మీద అయ్యే వ్యయం జనాభా నిష్పత్తి ఆధారంగా ఆంధ్ర ప్రదేశ్ మరియు తెలంగాణ రాష్ట్రాల మధ్య పంపిణీ చేయబడుతుంది.
- ఉమ్మడి హైకోర్టు న్యాయమూర్తుల జీతాలు మరియు అలవెన్సు మీద అయ్యే వ్యయం రెవిన్యూ నిష్పత్తి ఆధారంగా ఆంధ్ర ప్రదేశ్ మరియు తెలంగాణ రాష్ట్రాల మధ్య పంపిణీ చేయబడుతుంది.
- సెక్షను-35 బార్ కౌన్సిల్ మరియు న్యాయవాదుల కోసం నియమాలను కలిగి ఉంటుంది.
- సెక్షను-36 ఆంధ్ర ప్రదేశ్ హైకోర్టు సీలు స్వాధీనత నియమాలను కలిగి ఉంటుంది.

ఈ వాక్యాలలో సరియైనవి ఏవి ?

- C మాత్రమే
- B మాత్రమే
- A మరియు D
- C మరియు D

143. గిరిజన సంక్షేమ శాఖ 50 గిరిజన సంక్షేమ హోస్టళ్ళను ఈ విధంగా మార్చడానికి అనుమతి పొందినది

- అతిథి గృహాలు
- వసతి గృహాలు
- ఆశ్రమ పాఠశాలలు
- యువజన హోస్టళ్ళు

144. The Backward Classes Welfare Department focuses on the welfare and development of the backward classes through

- (1) Economic Development
- (2) Technical Development
- (3) Infrastructure Development
- (4) Agriculture Development

145. Which of the following pairs are correctly matched ?

- | | |
|-----------------------------------|---|
| A. A.P. Labour Welfare Fund Act | : 1990 |
| B. Dr. YSR Arogyasri Scheme | : Provides insurance renewal facility |
| C. Right to Education Act in A.P. | : Implemented in 2010 |
| D. National Nutrition Mission | : Reducing stunting, nutrition and anemia |

- (1) Only A, B and C
- (2) Only B, C and D
- (3) Only A and D
- (4) A, B, C and D

144. వెనుకబడిన తరగతుల సంక్షేమ శాఖ, వెనుకబడిన తరగతుల సంక్షేమం, అభివృద్ధి కొరకు దీనిపై దృష్టి సారించింది

- (1) ఆర్థికాభివృద్ధి
- (2) సాంకేతిక అభివృద్ధి
- (3) మౌలిక వసతుల అభివృద్ధి
- (4) వ్యవసాయాభివృద్ధి

145. సరిగా జతచేయబడిన జతలను ఎంపిక చేయండి

- | | |
|--|---|
| A. ఆంధ్ర ప్రదేశ్ లేబర్ వెల్ఫేర్ చట్టం | : 1990 |
| B. డా. వై.ఎస్.ఆర్. ఆరోగ్యశ్రీ వధకం | : భీమారెన్యూవల్ సదుపాయాన్ని కల్పిస్తుంది |
| C. ఆంధ్ర ప్రదేశ్ లో రైట్ టు ఎడ్యుకేషన్ చట్టం | : 2010 లో మొదలు పెట్టబడింది |
| D. నేషనల్ న్యూట్రీషన్ మిషన్ | : ఎదుగుదలని లిచిపోవడం తగ్గించుట, పోషణ మరియు రక్షణ |

- (1) A, B మరియు C మాత్రమే
- (2) B, C మరియు D మాత్రమే
- (3) A మరియు D మాత్రమే
- (4) A, B, C మరియు D

146. Consider the following :

A : Investments in physical and social infrastructure are important for higher growth which favours the poor and can also improve employment and social development.

R : Low growth in public investment could be the reason for the low growth in employment.

Choose your answer from the codes provided.

- (1) A and R are true and R is the correct explanation of A
- (2) A and R are true but R is not the correct explanation of A
- (3) A is true but R is false
- (4) A is false but R is true

147. Self Help Group Bank Linkage Programme was launched by NABARD in

- (1) 1990
- (2) 1995
- (3) 1980
- (4) 2005

146. క్రింది వానిని పరిగణనలోనికి తీసి కొనండి :

A : ఆర్థికాభివృద్ధికి భౌతిక మరియు సామాజిక, మౌలిక సదుపాయాలలో పెట్టుబడులు ముఖ్యమైనవి ఇవి పేదవారికి సహాయపడి, ఉపాధి మరియు సాంఘికాభివృద్ధి కూడ మెరుగు పరుస్తాయి.

R : ప్రభుత్వపెట్టుబడులలో అల్పవృద్ధి, ఉపాధిలో అల్పవృద్ధికి కారణం కావచ్చు.

ఇచ్చిన గుర్తులను బట్టి సమాధానములు గుర్తించండి.

- (1) A మరియు R రెండును సత్యములు, మరియు A కు R సరైన వివరణ
- (2) A మరియు R రెండును సత్యములు కాని A కు R సరైన వివరణ కాదు
- (3) A సత్యము కాని R అసత్యము
- (4) A అసత్యము R సత్యము

147. స్వయం సహాయక సంఘాన్ని బ్యాంకుతో అనుసంధానం చేయు కార్యక్రమం నాబార్డు (NABARD) చేత ప్రారంభించబడిన సంవత్సరం

- (1) 1990
- (2) 1995
- (3) 1980
- (4) 2005

148. Consider the following :

- A. Education
- B. Market dynamics
- C. Housing

Which of the above support structures result in empowerment of women-only Self Help Groups ?

- (1) Only A
- (2) Only B and C
- (3) Only A and C
- (4) A, B and C

149. The female labour force participation rate in India which was at 36.7% in 2005 was found to have fallen in 2018 to

- (1) 26%
- (2) 34%
- (3) 32%
- (4) 29%

150. Raja Raja Narendra is a

- (1) Tuluva Dynasty king
- (2) Eastern Chalukyan king
- (3) Western Chalukyan king
- (4) Mauryan Dynasty king

148. క్రిందిని పరిగణనలోకి తీసుకోండి :

- A. విద్య
- B. మార్కెట్ డైనమిక్స్
- C. గృహ సంబంధం

పై వాటిలో ఈ మద్దతు అంశాల ఫలితంగా మహిళా సాధికారత ఉన్న స్వయం సహాయక సంఘాలు ఏర్పడతాయి

- (1) A మాత్రమే
- (2) B మరియు C మాత్రమే
- (3) A మరియు C మాత్రమే
- (4) A, B మరియు C

149. 2005 లో భారత దేశంలోని స్త్రీ కార్మిక శక్తి పాల్గొను రేటు 36.7% ఉన్నది. 2018 లో అది ఈ శాతానికి పడిపోయినది.

- (1) 26%
- (2) 34%
- (3) 32%
- (4) 29%

150. రాజ రాజ నరేంద్రుడు ఈ వంశపు రాజు

- (1) తుళువ వంశపు రాజు
- (2) తూర్పు చాళుక్య రాజు
- (3) పశ్చిమ చాళుక్య రాజు
- (4) మౌర్య వంశపు రాజు